

ශ්‍රී ලංකා විභාග දෙපාර්තමේන්තුව ශ්‍රී ලංකා විභාග දෙපාර්තමේන්තුව ශ්‍රී ලංකා විභාග දෙපාර්තමේන්තුව ශ්‍රී ලංකා විභාග දෙපාර්තමේන්තුව ශ්‍රී ලංකා විභාග දෙපාර්තමේන්තුව
 Department of Examinations, Sri Lanka இணையப் பரீட்சைத் திணைக்களம் Department of Examinations, Sri Lanka
 Department of Examinations, Sri Lanka இணையப் பரීட்சைத் திணைக்களம் Department of Examinations, Sri Lanka

60 S I, II

අධ්‍යයන පොදු සහතික පත්‍ර (සාමාන්‍ය පෙළ) විභාගය, 2020
 கல்விப் பொதுத் தராதரப் பத்திர (சாதாரண தரப் பரீட்சை, 2020
 General Certificate of Education (Ord. Level) Examination, 2020

ව්‍යාපාර හා ගිණුම්කරණ අධ්‍යයනය	I, II
வணிகக் கல்வியும் கணக்கீடும்	I, II
Business and Accounting Studies	I, II

පැය තුනයි
 மூன்று மணித்தியாலம்
 Three hours

අමතර කියවීම් කාලය - මිනිත්තු 10 යි
 மேலதிக வாசிப்பு நேரம் - 10 நிமிடங்கள்
 Additional Reading Time - 10 minutes

අමතර කියවීම් කාලය තුළ පඤ්ච කියවා තුළ හෝරා ගැනීමටත් පිළිතුරු ලිවීමේදී උපුටාගත් දෙය තුළ කංචිධානය කර ගැනීමටත් යොදාගන්න.

ව්‍යාපාර හා ගිණුම්කරණ අධ්‍යයනය I

සැලකිය යුතුයි:

- (i) සියලු ම ප්‍රශ්නවලට පිළිතුරු සපයන්න.
- (ii) අංක 1 සිට 40 තෙක් ප්‍රශ්නවල, දී ඇති (1), (2), (3), (4) යන පිළිතුරුවලින් නිවැරදි හෝ වඩාත් ගැළපෙන හෝ පිළිතුර හෝරා ගන්න.
- (iii) ඔබට සැපයෙන පිළිතුරු පත්‍රයේ එක් එක් තුළය සඳහා දී ඇති කව අතුරෙන් ඔබ හෝරාගත් පිළිතුරෙහි අංකයට සැකදෙන කවය තුළ (X) ලකුණ යොදන්න.
- (iv) එම පිළිතුරු පත්‍රයේ පිටුපස දී ඇති අනෙක් උපදෙස් ද කැලකිල්ලෙන් සිටවා, ඒවා පිළිපදින්න.

● පහත සඳහන් සිද්ධිය ඇසුරෙන් අංක 1 සිට 5 තෙක් ප්‍රශ්නවලට පිළිතුරු සපයන්න.

ගිරිකුල මහා විද්‍යාලයේ ආදි ශිෂ්‍ය සංගමය, පාසල් සමුපකාර සමිතිය හා අධ්‍යයන හා අනුධායන කාර්ය මණ්ඩල එකමුතුව, 'තිස්ස සහල් මෝල්' ව්‍යාපාරයේ අයිතිකරු වන දහම් සේකර පරිත්‍යාග කරන සහල් භාවිතයෙන් සකස් කර ලබා දෙන සහල් කැඳ විද්‍යාවට පාසලේ සිසුන් රුවිකත්වයක් දක්වයි.

1. ගිරිකුල මහා විද්‍යාලය විසින් සපුරාලනු ලබන මිනිස් අවශ්‍යතාව කුමක් ද?

(1) ආහාර	(2) අධ්‍යාපනය	(3) සෞඛ්‍යය	(4) ආරක්ෂාව
----------	---------------	-------------	-------------
2. ගිරිකුල මහා විද්‍යාලයේ බාහිර පරිසර සාධකයක් සඳහා නිදසුනක් වනුයේ,

(1) අධ්‍යයන කාර්ය මණ්ඩලය ය.	(2) අනුධායන කාර්ය මණ්ඩලය ය.
(3) 'තිස්ස සහල් මෝල්' ව්‍යාපාරය ය.	(4) පාසලේ සිසුන් ය.
3. ඉහත සිද්ධියේ ඇතුළත් රාජ්‍ය අංශයේ ව්‍යාපාර සංවිධානයක් වනුයේ,

(1) 'තිස්ස සහල් මෝල්' ව්‍යාපාරයයි.	(2) ආදි ශිෂ්‍ය සංගමයයි.
(3) පාසල් සමුපකාර සමිතියයි.	(4) ගිරිකුල මහා විද්‍යාලයයි.
4. ඉහත සිද්ධියෙහි ඇතුළත් සහල් කැඳ සකස් කිරීමට භාවිත කළ සහල් අයත් වන නිෂ්පාදන සාධකය කුමක් ද?

(1) භූමිය	(2) ශ්‍රමය	(3) ප්‍රාග්ධනය	(4) ව්‍යවසායකත්වය
-----------	------------	----------------	-------------------
5. ඉහත සිද්ධියේ ඇතුළත් 'තිස්ස සහල් මෝල්' ව්‍යාපාරය සම්බන්ධ නිවැරදි ප්‍රකාශය හෝරන්න.

(1) මෙම ව්‍යාපාරයේ නාමය ලියාපදිංචි කිරීම අනිවාර්ය වේ.
(2) මෙම ව්‍යාපාරය සම්බන්ධ දහම් සේකරගේ වගකීම සීමිත වේ.
(3) මෙම ව්‍යාපාරයට නීතිමය පුද්ගලභාවයක් ඇත.
(4) මෙම ව්‍යාපාරය ලාභ අරමුණු කර නොගත් ව්‍යාපාරයකි.
6. භාණ්ඩ නිෂ්පාදන ව්‍යාපාරයක් වන්නේ,

(1) සීමාසහිත ලංකා සීනි (පෞද්.) සමාගම ය.
(2) සමුපකාර නොග වෙළෙඳ සංස්ථාව ය.
(3) ශ්‍රී ලංකා ගුවන් සමාගම ය.
(4) ශ්‍රී ලංකා මහ බැංකුව ය.

7. පුජාකන්ත්‍රවාදී සාලනයක් සහ ස්වේච්ඡා හා විවෘත සාමාජිකත්වයක් පැවතීම ව්‍යාපාර සංවිධානයක ලක්ෂණ වේ. එම ව්‍යාපාර සංවිධාන වර්ගය සඳහා නිදසුනක් වන්නේ,

- (1) ඉසවර්ධන සහ පුහුණුව ය.
- (2) සී/ස මහරගම විවිධ සේවා සමුපකාර සමිතිය ය.
- (3) ලංකා ඛනිජ තෙල් නීතිගත සංස්ථාව ය.
- (4) සී/ස ශ්‍රී ලංකා ටෙලිකොම් පොදු සමාගම ය.

8. පහත දැක්වෙන්නේ සිදුවීම් කිහිපයකි.

- A : රුවන්, 'මොඩර්න් සැලුන්' වෙත ගොස් කොණ්ඩය කපා ගැනීම
- B : සපුම්ලේ කම් පුයෝජනය සඳහා ජපානයෙන් මෝටර් රථයක් ආනයනය කිරීම
- C : 'සුසිදු මල් වෙළෙන්දෝ' නැවුම් මල් කුට් දෙකක් මිලදී ගැනීම
- D : සමත් සිය අස්වැන්නෙන් වී කිලෝ 50 ක් වී මෝල් හිමියෙකුට විකිණීම

ඉහත සිදුවීම් අතුරෙන් කොම වෙළෙඳාම් වන්නේ,

- (1) A සහ B ය.
- (2) A සහ C ය.
- (3) B සහ D ය.
- (4) C සහ D ය.

● පහත සඳහන් සිද්ධිය ඇසුරෙන් අංක 9 සහ 10 ප්‍රශ්නවලට පිළිතුරු සපයන්න.

කසුන්ට රු. 18 000 ක ලංකා බැංකු චෙක්පතක් ඇරඹීමෙන් ලැබුණි. එය 'ගනුදෙනු කළ නොහැක' ලෙස රේඛනය කර තිබුණි. කසුන් එම චෙක්පත තමාගේ මහජන බැංකුවේ ඇති ජංගම ශිඤ්ඤමේ තැන්පත් කරන ලදී.

9. ඇරඹීමෙන් ලද චෙක්පත

- (1) විශේෂ රේඛනය සහිත චෙක්පතකි.
- (2) සාමාන්‍ය රේඛනය සහිත චෙක්පතකි.
- (3) පිටසන් කළ නොහැකි චෙක්පතකි.
- (4) බැංකු කවුන්ටරයෙන් මුදල් ලබාගත හැකි චෙක්පතකි.

10. ඉහත සිද්ධියේ සඳහන් චෙක්පතෙහි,

- (1) ආදායකයා කසුන් වන අතර, අණලදු මහජන බැංකුව වේ.
- (2) අණකරු ඇරඹීම වන අතර, ආදායකයා මහජන බැංකුව වේ.
- (3) අණලදු ලංකා බැංකුව වන අතර, ආදායකයා කසුන් වේ.
- (4) අණකරු කසුන් වන අතර, අණලදු ලංකා බැංකුව වේ.

11. රු. 1 000 000 ට රක්ෂණය කර තිබූ අම්ලයේ ව්‍යාපාර ගොඩනැගිල්ලේ කොටසක ගින්නක් ඇතිවූ අතර වන්දිය ලෙස රු. 300 000 ක් ඔහුට ලැබුණි. රු. 300 000 ක් පමණක් වන්දිය ලෙස ලැබීමට අදාළ රක්ෂණ මුලධර්මය වන්නේ,

- (1) රක්ෂා හිමිකමයි.
- (2) උපරිම විශ්වාසයයි.
- (3) භානිපුරණයයි.
- (4) ආදේශනයයි.

12. පහත X තීරුවේ සන්නිවේදන මාධ්‍ය ද Y තීරුවේ සන්නිවේදන මාධ්‍ය සඳහා නිදසුන් ද දැක්වේ.

X	Y
1. වාචික	A- පාසලේ නිබන්ධන සිතුවම් නාද කිරීම
2. ලිඛිත	B- ශිෂ්‍ය නායක රැස්වීමක් පැවැත්වීම
3. විද්‍යුත් ලිඛිත	C- දෙමාපිය රැස්වීමට කැඳවීම් ලිපි කැපාල් කිරීම
4. සංග්‍රහ සහ සංකේත	D- කලාප අධ්‍යාපන කාර්යාලයට ෆැක්ස් (Fax) පණිවුඩයක් යැවීම

ඉහත සන්නිවේදන මාධ්‍යය, නිදසුන් සමග පිළිවෙළින් ගළපන ලද පිළිතුර තෝරන්න.

- (1) B, C, A, D
- (2) B, C, D, A
- (3) C, D, A, B
- (4) C, D, B, A


13. 'යාපනය ජාත්‍යන්තර ගුවන් තොටුපළ ආකර්ශනීය ලෙස නවීකරණය කිරීම' මෙම ප්‍රකාශය තුළ ගම්‍ය වන ප්‍රවාහන මූලිකාංගය වන්නේ,

- (1) මාර්ගයයි.
- (2) මාධ්‍යයයි.
- (3) බලයයි.
- (4) පර්යන්තයයි.

14. "ආයුර්‍ය පුව මැදුර ප්‍රතිශක්තිකරණ ජනන පානයක් නිෂ්පාදනය කිරීමට තීරණය කරන ලදී."

මෙම ප්‍රකාශය තුළ ගම්‍ය වන කළමනාකරණ කාර්යය සහ අලෙවිකරණ මිශ්‍රයේ විචල්‍යය පිළිවෙළින් දැක්වෙන පිළිතුර තෝරන්න.

- (1) සැලසුම්කරණය සහ ප්‍රවර්ධනය
- (2) සංවිධානකරණය සහ මිල
- (3) සැලසුම්කරණය සහ නිෂ්පාදනය
- (4) සංවිධානකරණය සහ නිෂ්පාදනය



15. ලාභාංශ ආදායමක් ලැබෙන ආදායමක මාර්ගය වන්නේ,

- (1) සාමාන්‍ය කොටස් මිලදී ගැනීම ය. (2) ස්වයං භාර්යකුගේ ආදායම මිලි ක ය.
 (3) ඉතිරි කිරීමේ පිණිසම මුදල් තැන්පත් කිරීම ය. (4) ස්වර්ණාභරණ මිලදී ගැනීම ය.

16. ආදායමක සම්බන්ධ වැරදි ප්‍රකාශය කෙරෙන්න.

- (1) ඉටුමුල්ල ආදායමක මිලි ක මගින් ප්‍රාග්ධන ලාභ උපයා ගත හැකි ය.
 (2) රජයේ දීමනාදායක මුදල අවශ්‍යතා සපුරා ගැනීමට භාණ්ඩාගාර මිලදායමක් සිදුකර ගනිය.
 (3) ආදායමකට සම්බන්ධ සාමාන්‍ය කොටස් මිලදී ගැනීමෙන් එහි අයිතිකරුවකු වෙරට ගත් වේ.
 (4) කොළඹ කොටස් වෙරෙද්දෙරෙහි, ශ්‍රී ලංකා පුරුදුමිලක් හා විනිසුරු කොමිෂන් සභාව මගින් අධීක්ෂණය කරයි.

17. වැටුප්පි කට, අඩුම මැර යන ද්විත්ව සටහන් මුලධර්මය අදාළ වන පිණිසම වර්ගය වන්නේ,

- (1) වත්කම් පිණිසම ය. (2) වැටුප්පි පිණිසම ය.
 (3) හිමිකම් පිණිසම ය. (4) ආදායම් පිණිසම ය.

• පහත සඳහන් කොටසුදා ඇතුළුවෙන් අංක 18 සිට 20 වෙත ප්‍රශ්නවලට පිළිතුරු සපයන්න.
 වර්ෂ 2020 නොවැම්බර් 01 දිනට පිණිසමක සමීකරණය පහත පරිදි වේ.

$$\begin{matrix} \text{වත්කම් (රු.)} & = & \text{හිමිකම් (රු.)} & + & \text{වැටුප් (රු.)} \\ 50\,000 & & 35\,000 & & 15\,000 \end{matrix}$$

මෙම ව්‍යාපාරයේ 2020 නොවැම්බර් මස පළමු සතිය තුළ සිදු කළ කුණාදකුණ කිහිපයක් පහත දැක්වේ.

- A - රු. 10 000 ක වටුප් කොටසක් ණයට ගැනීම
 B - රු. 5 000 ක වටුප් කොටසක් අත්පිට මුදලට ගැනීම
 C - ණයහිමියෙකුට රු. 7 000 ක් ගෙවීම
 D - රු. 5 000 කට මිලදී ගත් වටුප් කොටසක් රු. 7 000 කට අත්පිට මුදලට විකිීම

18. ඉහත කුණාදකුණවලින් පසු මෙම ව්‍යාපාරයේ වත්කම්වල වටිනාකම කොපමණ ද?

- (1) රු. 10 000 යි. (2) රු. 15 000 යි. (3) රු. 18 000 යි. (4) රු. 25 000 යි.

19. 2020.11.01 දිනට ව්‍යාපාරයේ පැවති මුළු වත්කම්වල අගය වෙනස් කෙරෙන කුණාදකුණ කුමක් ද?

- (1) A (2) B (3) C (4) D

20. 2020 නොවැම්බර් මස පළමු සතිය අවසානයේදී ව්‍යාපාරයේ හිමිකම්

- (1) රු. 2 000 කින් වැඩිවේ. (2) රු. 7 000 කින් වැඩිවේ.
 (3) රු. 2 000 කින් අඩුවේ. (4) රු. 5 000 කින් අඩුවේ.

21. ව්‍යාපාරයක සිදු කුණාදකුණව මැර සටහන පහත දැක්වේ.

මුදල් පිණිසම	මැර	රු. 4 500
ලද වටුප් පිණිසම	මැර	රු. 500

මෙම කුණාදකුණ කුමක් ද?


- (1) රු. 500 ක වටුප්කින් අඩු කර රු. 5 000 ක භාණ්ඩ අත්පිට මුදලට ගැනීම
 (2) රු. 500 ක වටුප්කින් අඩු කර රු. 5 000 ක භාණ්ඩ ණයට ගැනීම
 (3) 10% ක වටුප්කින් සටහන රු. 5 000 ක ණයහිමියෙකුට මුදල් ගෙවීම
 (4) 10% ක වටුප්කින් සටහන රු. 5 000 ක ණයහිමියෙකුගෙන් මුදල් ලැබීම

22. ඇතුළු මැඩීමේ ව්‍යාපාරයකට මහන මැඩීමක් පහත රු. 500 000 කට අත්පිට මුදලට ගැනීම සටහන් කිරීමට අදාළ මුලාශ්‍ර ලේඛනය හා මූලික සටහන් පොත පිළිවෙලින් දැක්වෙන පිළිතුරු කෙරෙන්න.

- (1) ගැනුම් ඉන්වොයිසිය, ගැනුම් පරිභලය (2) ගෙවීම් වර්දුරුව, මුදල් පොත
 (3) ගෙවීම් වර්දුරුව, ගැනුම් පරිභලය (4) පරිභල වර්දුරුව, පොදු පරිභලය

23. වෙදිපිළි වෙරෙද්ද ව්‍යාපාරයක පොදු පරිභලයේ සටහන් කරන කුණාදකුණ කුමක් ද?

- (1) රු. 50 000 ක භාණ්ඩ කොටසක් ණයට ගැනීම
 (2) රු. 10 000 ක ණයහිමියෙකුට, මුදල් ගෙවීම
 (3) රු. 2 000 ක් වූ අයිතිකරුවාගේ නිවසේ වීදුලි බිල ව්‍යාපාරයේ මුදලින් ගෙවීම
 (4) රු. 80 000 ක ණය පිටපත් යන්ත්‍රයක් ණයට ගැනීම



24. ව්‍යවසායක 2020 දෙසැම්බර් මාසයේ පුර සුදුල් වියදම් රු. 1 900 ක් විය. දෙසැම්බර් මාසය අවසානයේ පුර සුදුල් ව්‍යාජයේ වේගය රු. 100 කි. 2021 ජනවාරි මාසයේ සිට පුර සුදුල් අග්‍රිමය රු. 1 000 කින් වැඩි කිරීමට තීරණය කර ඇත. 2021.01.01 දිනට පුර සුදුල් අග්‍රිමය ප්‍රතිපූරණය කළ යුතු වටිනාකම කොපමණ ද?

- (1) රු. 1 000 (2) රු. 1 900 (3) රු. 2 900 (4) රු. 3 000

25. ව්‍යවසායක බැංකු ගිණුමේ සටහන් කොටු, බැංකු ප්‍රකාශනයේ දැක්වෙන ගනුදෙනුටු කුමක් ද?

- (1) රු. 50 000 ක සුදුලක් බැංකු ගිණුමේ භැන්පත් කිරීම
 (2) සඳුරම් බැංකුවට රු. 5 000 ක ලාභාංශ ආදායමක් ලැබීම
 (3) රු. 15 000 ක භිතුවක් කළ රෙක්කට බැංකුව විසින් සුදුල් වෙවීම
 (4) රු. 20 000 ක භැන්පත් කළ රෙක්කට බැංකුව විසින් ගිණුමට බැර කිරීම

26. 2020 දෙසැම්බර් 01 දිනට බැංකු ප්‍රකාශනයේ වාසිදායක වේගය රු. 20 000 කි. මාසය තුළ බැංකුව විසින් සටහන් කළ ගනුදෙනු පහත දැක්වේ.

12/ 05	භැන්පත් කළ රෙක්කට	රු. 5 000
12/ 09	ස්ථාපිත නියෝජන වෙවීම	රු. 8 000
12/ 15	බැංකුවට ඉදිරිපත් කළ රෙක්කට සඳහා වෙවීම	රු. 12 000
12/ 25	නියෝජිත ප්‍රේමණ	රු. 10 000

2020 දෙසැම්බර් 31 දිනට බැංකු ප්‍රකාශනයේ වේගය කොපමණ ද?

- (1) රු. 13 000 (2) රු. 15 000 (3) රු. 22 000 (4) රු. 25 000

27. වෙළෙඳ ව්‍යවසායක විසින් එකක් රු. 400 බැගින් කිරීටුට පැකට් 50 ක් 10% ක වෙළෙඳ වටිනාකමට පවත්වා ගනු ලැබූ මාසයකට පෙර සුදුල් වෙවත්තෙන් නම් 5% ක වටිනාකම දෙනු ලැබේ. ගැනුම් පරිභෝජකයන් සටහන් කරන වටිනාකම කොපමණ ද?

- (1) රු. 17 100 (2) රු. 18 000 (3) රු. 19 000 (4) රු. 20 000

28. වේග පිරික්සුමේ හර සහ බැර නිරූපිත එකතුව අසමාන වීමට බලපාන ගිණුම්කරණ වරද කුමක් ද?

- (1) දුක් වටිනාකම රු. 500 ලද වටිනාකම ගිණුමට බැර කර, අදාළ නියෝජිත ගිණුමට හර කර තිබීම
 (2) රු. 12 000 ක ගැනුම් ඉන්වොයිසියක් සම්පූර්ණයෙන්ම ගිණුම් පොත්වලින් මග හැරී තිබීම
 (3) ලද වෙවල් කුලී රු. 2 500 සුදුල් ගිණුමේ නිරූපිත සටහන් කර, පොත්වල කුලී ගිණුමට හර කර තිබීම
 (4) නියම වත් රු. 20 000 ක බඩු කොටස උපකරණ ගිණුමට හර කර, නියමිත ගිණුමට බැර කර තිබීම

29. ව්‍යවසායක පොදු පරිභෝජකයන් සඳහා පිළි වැටුම් නිරූපිත කිරීමේ පරිභෝජන සටහනක් පහත දැක්වේ.

	හර (රු.)	බැර (රු.)
අවිනිශ්චිත ගිණුම (හර)	2 000	
ලද වටිනාකම ගිණුම		2 000

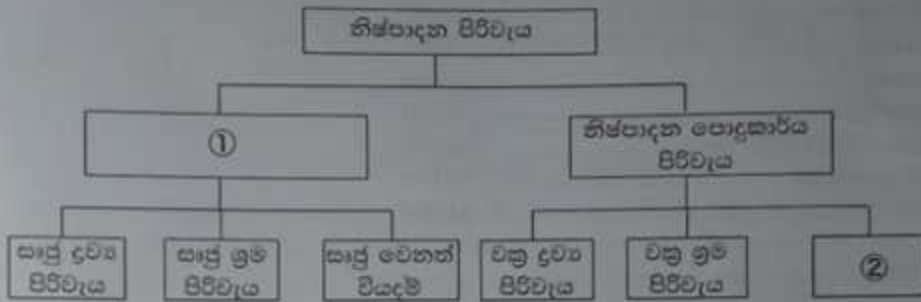
පිලිවි ඇති ගිණුම්කරණ වරද වන්නේ,

- (1) දුක් වටිනාකම රු. 2 000, ලද වටිනාකම ගිණුමට හර කර තිබීමයි.
 (2) ලද වටිනාකම ගිණුමේ බැර පැත්ත රු. 2 000 ක් අඩුවෙන් එකතු කර තිබීමයි.
 (3) ලද වටිනාකම ගිණුමේ වේගය රු. 2 000 වේග පිරික්සුමට උපුටාගෙන නොතිබීමයි.
 (4) නියමිතයට සුදුල් වෙවීමේදී රු. 2 000 ක වටිනාකම ලැබීම පොත්වල සටහන් නොවීමයි.



30. පුළුල් කාලයේ 2020 දෙසැම්බර් 31 දිනට ලැබීම් හා ගෙවීම් පිණිස අවසාන වැ. 15 000 ක් විය. නමුත් රඳිතව අත තිබේ මුදල වැ. 16 500 ක් බව එහි ආවේණිකත්වය පවසයි. මෙම වෙනසට හේතුව වන්නේ,
- (1) පවස පත්තර විසිනීමේ ආදායම වැ. 1 500, දෙසැම්බර් 31 දින අතේ ලැබී නොතිබීමයි.
 - (2) මුදලින් ගෙවූ සම්පූර්ණ මුදල වැ. 1 500, දෙසැම්බර් 31 දින අතේ සටහන් කර නොමැති වීමයි.
 - (3) දෙසැම්බර් 31 දින අතේ ගෙවා නොගත් සටහන් කර නොමැති වැ. 1 500 ක දුර්වලතා ගාස්තුවයි.
 - (4) මුදලින් ලැබී ඇති එහෙත් දෙසැම්බර් 31 දින අතේ සටහන් කර නොමැති වැ. 1 500 ක සාමාන්‍ය මුදල් ආදායමයි.

- සහන සඳහන් තොරතුරු ඇසුරෙන් අංක 31 හා 32 ප්‍රශ්නවලට පිළිතුරු සපයන්න.
- සහන දැක්වෙන්නේ නිෂ්පාදන පිරිවැය මූලිකයෙ දැක්වෙන සටහනයි.



මොරටු ලී බඩු නිෂ්පාදන ව්‍යාපාරයේ පිරිවැය අයිතම සිහිපයක් සහන දැක්වේ.

- A - දැව සඳහා පිරිවැය වැ. 40 000
- B - යන්ත්‍ර ක්ෂය වැ. 5 000
- C - වැලි කඩදාසි සහ පොලිස් වියදම වැ. 2 000
- D - වඩු කාර්මිකයාගේ වැටුප වැ. 30 000
- E - විදුලි වියදම වැ. 2 000

31. ඉහත සටහනේ අංක ① ස්ථානයට අදාළ වන මොරටු ලී බඩු නිෂ්පාදන ව්‍යාපාරයේ පිරිවැය අයිතම වන්නේ,
- (1) A සහ C ය. (2) A සහ D ය. (3) B සහ D ය. (4) C සහ D ය.
32. ඉහත සටහනේ අංක ② ස්ථානයට අදාළ වන මොරටු ලී බඩු නිෂ්පාදන ව්‍යාපාරයේ පිරිවැය කොමසිස් ද?
- (1) වැ. 2 000 (2) වැ. 5 000 (3) වැ. 7 000 (4) වැ. 9 000

- සහන සඳහන් තොරතුරු ඇසුරෙන් අංක 33 සහ 34 ප්‍රශ්නවලට පිළිතුරු සපයන්න.

සුමුදුගේ ව්‍යාපාරය 2019.01.01 දින පිරිවැය වැ. 950 000 කට මිලට ගත් ගොඩනැගිල්ල, මිසකට වැ. 20 000 මැහින් 2020.07.01 දින කුලියට දී, 2020.12.31 දිනෙන් අවසන් වර්ෂය තුළ වැ. 100 000 ක් ගොඩනැගිලි කුලී ලෙස ලබාගෙන ඇත. ගොඩනැගිල්ලේ ඵලදායී ජීව කාලය වර්ෂ 10 ක් ලෙස ද, පුනර්මුත් අගය වැ. 50 000 ක් ලෙස ද ඇස්තමේන්තු කර ඇත. ව්‍යාපාරයේ ගොඩනැගිලි සරල මාර්ග ක්‍රමයට ක්ෂය කරයි.

33. 2020.12.31 දිනෙන් අවසන් වර්ෂයේ ගොඩනැගිලි ක්ෂය දැක්වෙන පිළිතුර හෝරන්න.
- (1) වැ. 45 000 (2) වැ. 90 000 (3) වැ. 95 000 (4) වැ. 180 000
34. ඉහත තොරතුරු සම්බන්ධව නිවැරදි ප්‍රකාශය හෝරන්න.
- (1) 2020.12.31 දිනට ගෙවිය යුතු ගොඩනැගිලි කුලී වැ. 20 000 කි.
- (2) 2020.12.31 දිනට ලැබිය යුතු ගොඩනැගිලි කුලී වැ. 120 000 කි.
- (3) 2020.12.31 දිනට ලැබිය යුතු ගොඩනැගිලි කුලී වැ. 20 000 කි.
- (4) 2020.12.31 දිනෙන් අවසන් වර්ෂය සඳහා ගොඩනැගිලි කුලී ආදායම වැ. 100 000 කි.



- පහත සඳහන් තොරතුරු ඇසුරෙන් අංක 35 සිට 40 තෙක් ප්‍රශ්නවලට පිළිතුරු සපයන්න.
සමාධිගේ ව්‍යාපාරයේ 2020.12.31 දිනට ගේෂ පිරික්සුමෙන් උපුටාගත් ගේෂ කිහිපයක් පහත දැක්වේ.

රු.	
විකුණුම්	600 000
ගැනුම්	350 000
ගෙන ඒමේ කුලී	1 000
ලී බඩු (පිරිවැයට)	50 000
තොගය (2020.01.01 දිනට).....	20 000
ණයගැනීමේ.....	35 000
විදුලි ගාස්තු.....	15 000
10% බැංකු ණය.....	600 000
ප්‍රවාරණය.....	32 000
මුදල් ගේෂය.....	7 000
අමතර ආදායම්.....	16 500
ප්‍රාග්ධනය (2020.01.01 දිනට).....	400 000
වැටුල් හා වේතන.....	75 000
ගැනීම්.....	15 000

අමතර තොරතුරු :

- 2020.12.31 දිනට ඉතිරි තොගය රු. 50 000 කි.
- 2020.12.31 දිනට ගේෂය යුතු වැටුල් හා වේතන රු. 15 000 කි.
- ලී බඩු වාර්ෂිකව 10% බැගින් සරල මාර්ග ක්‍රමයට කේෂ කරනු ලැබේ.

- සමාධිගේ ව්‍යාපාරයේ 2020.12.31 දිනෙන් අවසන් වර්ෂය සඳහා විනිශ්චිතව කිසිදු තොගයේ පිරිවැය
(1) රු. 321 000 කි. (2) රු. 351 000 කි. (3) රු. 370 000 කි. (4) රු. 371 000 කි.
- සමාධිගේ ව්‍යාපාරයේ 2020.12.31 දිනෙන් අවසන් වර්ෂය සඳහා දළ ලාභය
(1) රු. 279 000 කි. (2) රු. 280 000 කි. (3) රු. 320 000 කි. (4) රු. 321 000 කි.
- සමාධිගේ ව්‍යාපාරයේ 2020.12.31 දිනෙන් අවසන් වර්ෂය සඳහා මුළු ආදායම
(1) රු. 295 500 කි. (2) රු. 600 000 කි. (3) රු. 601 500 කි. (4) රු. 616 500 කි.
- සමාධිගේ ව්‍යාපාරයේ 2020.12.31 දිනෙන් අවසන් වර්ෂය සඳහා බෙදාහැරීමේ වියදම්, පරිපාලන වියදම් සහ මූල්‍ය වියදම්වල වටිනාකම් පිළිවෙළින් දැක්වෙන පිළිතුර තෝරන්න.
(1) රු. 33 000, රු. 95 000, රු. 60 000
(2) රු. 32 000, රු. 110 000, රු. 660 000
(3) රු. 32 000, රු. 110 000, රු. 60 000
(4) රු. 110 000, රු. 32 000, රු. 660 000
- සමාධිගේ ව්‍යාපාරයේ 2020.12.31 දිනට මුළු ජංගම වගකීම්වල වටිනාකම
(1) රු. 15 000 කි. (2) රු. 60 000 කි. (3) රු. 75 000 කි. (4) රු. 675 000 කි.
- සමාධිගේ ව්‍යාපාරයේ 2020.12.31 දිනට මුළු ජංගම වත්කම්වල වටිනාකම
(1) රු. 45 000 කි. (2) රු. 50 000 කි. (3) රු. 92 000 කි. (4) රු. 142 000 කි.

**



ශ්‍රී ලංකා විභාග දෙපාර්තමේන්තුව
 Department of Examinations, Sri Lanka
 இலங்கைப் பரீட்சைத் திணைக்களம்
 Department of Examinations, Sri Lanka

60 S I, II

අධ්‍යයන පොදු සහතික පත්‍ර (සාමාන්‍ය පෙළ) විභාගය, 2020
 கல்விப் பொதுத் தராதரப் பத்திர (சாதாரண தர)ப் பரீட்சை, 2020
 General Certificate of Education (Ord. Level) Examination, 2020

වணික හා ගිණුම්කරණ අධ්‍යයනය I, II
 வணிகக் கல்வியும் கணக்கீட்டும் I, II
 Business and Accounting Studies I, II

වணික හා ගිණුම්කරණ අධ්‍යයනය II

දෙසන් උපදෙස් දී ඇති පරිදි ප්‍රශ්න පහකට පමණක් පිළිතුරු සපයන්න. ඊට වැඩියෙන් ලියා ඇති පිළිතුරු, අයදුම්කරු විසින් කපා හැර නොමැති අවස්ථාවලදී ලකුණු නොකර ම කපා හරිනු ලැබේ.

- = පළමුවන ප්‍රශ්නය ඇතුළුව I කොටසෙන් ප්‍රශ්න දෙකේ ද, II කොටසෙන් ප්‍රශ්න දෙකේ ද බැගින් තෝරාගෙන ප්‍රශ්න පහකට පමණක් පිළිතුරු සපයන්න.
- = පිළිතුරු පැහැදිලි අත් අකුරින් ලියන්න.

1. පහත සිද්ධි පිළිබඳව ඇසුරෙන් අංක (i) සිට (x) දක්වා ප්‍රශ්නවලට පිළිතුරු සපයන්න.

පරිසර කළමනාකරණය පිළිබඳ උපාධිධාරියෙකු වන සීරී, පියාට අයත් වශාල පුවත් වත්තේ පුවත් ගස්වලින් වැටෙන කොළපත්වලින් කෑම ඇසුරුම් පෙට්ටි සැකසීමට කිරණය කළේ ය. තම සොයුරිය වන ලක්මිණි ද සමග පුවත් වත්තේ වැටෙන කොළපත් එකතු කර, ඒවා සෝදා පිරිසිදු කර, වෙලා, පදම්කොට කෑම ඇසුරුම් පෙට්ටි සකස් කිරීමේ ව්‍යාපාරයක් 'සිරිලක් නිෂ්පාදන' නමින් 2020 මාර්තු 01 දින ආරම්භ කර අවශ්‍ය සේවකයින් බඳවා ගන්නා ලදී. සීරී හා ලක්මිණි රු. 50 000 බැගින් යොදා ව්‍යාපාරය ආරම්භ කළ අතර, එදිනම සීරී සතුව තිබූ රු. 300 000 ක් වටිනා කුඩා ලොරි රථය ද ව්‍යාපාරයට යොදවන ලදී.

2020 මාර්තු මාසයේ කෑම ඇසුරුම් පෙට්ටි නිෂ්පාදනයට අදාළ ගනුදෙනු පහත දැක්වේ.

- කෑම ඇසුරුම් පෙට්ටි සකස් කිරීමේ, ඇලවීමේ හා පිරිසිදු කිරීමේ ද්‍රව්‍ය අත්විට ගැනුම්..... රු. 18 000
- කෑම ඇසුරුම් පෙට්ටි සකස් කරන්නාගේ මාසික වැටුප් ගෙවීම්..... රු. 20 000
- මාර්තු මාසයේ විදුලි බිලපත (මාර්තු 31 දින වන විට ගෙවා නොමැත.)..... රු. 4 000
- කෑම පෙට්ටි අවුළු සඳහා ගෙවූ පිරිවැය..... රු. 30 000
- කෑම පෙට්ටි අවුළු මසකට රු. 1 000 බැගින් ක්ෂය කළ යුතු ය.

2020 මාර්තු මාසයේ නිෂ්පාදිත බෙදාහැරීමට අදාළ ගනුදෙනු පහත දැක්වේ.

- රියදුරු වැටුප් ගෙවීම් රු. 30 000
- ලොරි රථයේ ඉන්ධන හා නඩත්තු වියදම් ගෙවීම් රු. 20 000
- බෙදා හැරීමේ ලොරි රථය වාර්ෂිකව 20% බැගින් ක්ෂය කළ යුතු ය.

කෑම ඇසුරුම් පෙට්ටි ප්‍රසාරය වෙළෙඳපොළවලට ණය පදනම මත බෙදා හරිනු ලැබේ. මාර්තු මාසයේ දී කෑම ඇසුරුම් පෙට්ටි 600 ක් නිෂ්පාදනය කර ඇති අතර, එක් ඇසුරුමක් රු. 200 බැගින් සියලුම කෑම ඇසුරුම් පෙට්ටි 10% ක වෙළෙඳ වට්ටමකට යටත්ව බෙදා හැර ඇත.

2020 මාර්තු 31 දිනට ඉතිරි කෑම ඇසුරුම් පෙට්ටි සකස් කිරීමේ, ඇලවීමේ හා පිරිසිදු කිරීමේ ද්‍රව්‍ය රු. 7 000 කි. පොලිතින් හා ජලාස්ථි කෑම ඇසුරුම් පෙට්ටි තහනම් කිරීමට රජය ගත් කිරණය සමග සිරිලක් නිෂ්පාදන සඳහා ඉල්ලුම ඉහළ යමින් පවතී.

- (i) (අ) 'සිරිලක් නිෂ්පාදන' ව්‍යාපාරය සපුරාලනු ලබන මූලික මිනිස් අවශ්‍යතාව කුමක් ද?
- (ආ) ඉහත (i) (අ) සඳහා පිට සඳහන් කළ මූලික මිනිස් අවශ්‍යතාව 'සිරිලක් නිෂ්පාදන' ව්‍යාපාරය විසින් සපුරාලන ආකාරය සඳහන් කරන්න.

(ii) 'සිරිලක් නිෂ්පාදන' ව්‍යාපාරය විසින් නිෂ්පාදනය කරනු ලබන කෑම් ඇසුරුම් පෙට්ටිවලට අදාළව පහත සඳහන් නිෂ්පාදන සාධක සඳහා නිදසුන බැගින් ලියන්න. (පිළිතුරු සැපයීමට පහත ආකාරයේ වගුවක් භාවිත කරන්න.)

නිෂ්පාදන සාධකය	නිදසුන
1. තුම්ප	
2. ප්‍රාග්ධනය	

- (iii) (අ) 'සිරිලක් නිෂ්පාදන' ව්‍යාපාරයේ ශක්තියක් සහ අවස්ථාවක් ලියන්න.
(ආ) ඉහත සිද්ධියේ ඇතුළත් පෞද්ගලික ආයතනයේ ව්‍යාපාර සඳහා නිදසුන් දෙකක් ලියන්න.
- (iv) 'සිරිලක් නිෂ්පාදන' ව්‍යාපාරය ඇසුරෙන්,
(අ) අලෙවිකරණ මිශ්‍රයේ විචල්‍ය වන 'නිෂ්පාදිතය' සහ 'මිල' සඳහා නිදසුන බැගින් ලියන්න.
(ආ) කළමනාකරණ කාර්ය වන 'කැලසුම්කරණය' සහ 'සංවිධානකරණය' සඳහා නිදසුන බැගින් ලියන්න.
- (v) (අ) 2020 මාර්තු 01 දිනට 'සිරිලක් නිෂ්පාදන' ව්‍යාපාරයේ ප්‍රාග්ධනය කොපමණ ද?
(ආ) 2020 මාර්තු 01 දිනට 'සිරිලක් නිෂ්පාදන' ව්‍යාපාරය සතු වත්කම් දෙකක් ලියන්න.
- (vi) 'සිරිලක් නිෂ්පාදන' ව්‍යාපාරයේ 2020 මාර්තු මාසයේ විකුණුම් සටහන් කිරීමට අදාළ ද්විත්ව සටහන වටිනාකම් සමග ලියන්න.
- (vii) (අ) 'සිරිලක් නිෂ්පාදන' ව්‍යාපාරය භාවිත කරන මූලික සටහන් පොතක් ලියන්න.
(ආ) ඉහත (vii) (අ) සඳහා මඔ සඳහන් කළ මූලික සටහන් පොතේ ඇතුළත් කරන ගනුදෙනුවක් සිද්ධියෙන් ලප්‍රවා ලියන්න.
- (viii) 2020 මාර්තු මාසයේ නිෂ්පාදනය කළ එක් කෑම් ඇසුරුම්ක පිරිවැය ගණනය කරන්න.
- (ix) 'සිරිලක් නිෂ්පාදන' ව්‍යාපාරයේ 2020 මාර්තු මාසයේ ශුද්ධ ලාභය හෝ අලාභය ගණනය කරන්න.
- (x) 'සිරිලක් නිෂ්පාදන' ව්‍යාපාරයේ 2020 මාර්තු 31 දිනට මුළු හිමිකම් වටිනාකම සහ මුළු වගකීම්වල වටිනාකම වෙන වෙනම ලියන්න.

(ලකුණු 02 x 10 = 20 යි)

I කොටස - ව්‍යාපාර අධ්‍යයනය

(ප්‍රශ්න දෙකකට පමණක් පිළිතුරු සපයන්න.)

- 2. (i) ඒක පුද්ගල ව්‍යාපාරයක දැකිය හැකි ලක්ෂණ දෙකක් ලියන්න. (ලකුණු 02 යි)
- (ii) පහත සඳහන් ප්‍රකාශ සත්‍ය ද අසත්‍ය ද යන්න දක්වන්න.
(අ) මිනිස් අවශ්‍යතා සීමිත වන අතර මිනිස් ප්‍රවෘත්තා සංසිද්ධිය වේ.
(ආ) ව්‍යාපාරයක අභ්‍යන්තර පරිසරය අධ්‍යයනය කළින් ව්‍යාපාර අවස්ථා හඳුනාගත හැකි ය.
(ඇ) නිෂ්පාදන ව්‍යාපාරයක ගොඩනැගිල්ල, නිෂ්පාදන සාධකයක් වන භූමියට අයත් වේ.
(ඈ) ව්‍යාපාර සංවිධාන එහි හිමිකාරීත්වය අනුව ඒක පුද්ගල සහ හවුල් ව්‍යාපාර ලෙස වර්ග කර දක්වයි. (ලකුණු 02 යි)
- (iii) පහත දැක්වෙන්නේ 10 ශ්‍රේණියේ ඉගෙනුම ලබන සුදුන් සිදුකරනු ලැබූ කාර්ය දෙකකි.
1. මාර්ගගත (Online) ක්‍රමයට ව්‍යාපාර අධ්‍යයනය විෂයයට අදාළ පාඨමකට සහභාගී වීම
2. නැගෙනහිර සමඟ ගිවිසුමක් වාදනය කිරීම
ඉහත එකිනෙක කාර්යවලින් ගම්‍ය වන මිනිස් අවශ්‍යතාව සඳහන් කර, ඒවා සපුරාගෙන ඇති ආකාරය ලියන්න. (පිළිතුරු ලිවීම සඳහා පහත ආකාරයේ වගුවක් භාවිත කරන්න.)

මිනිස් අවශ්‍යතාව	එය සපුරාගෙන ඇති ආකාරය
1.	
2.	

(ලකුණු 02 යි)

- (iv) 'විකුම් රබර් නිපාදුම්' ව්‍යාපාරයේ හිමිකරු විකුම, ඉහළ යන ඉල්ලුමට මුහුණ දීම සඳහා සිය ව්‍යාපාරය පුළුල් කිරීමේ අදහසින් බැංකු ණයක් අයදුම් කළ විට, දැන ගැනීමට හැකි වූයේ රජය විසින් වාර්ෂික බැංකු ණය පොලී අනුපාතය 12% සිට 8% දක්වා අඩුකර ඇති බවයි.
(අ) ඉහත සිද්ධිය තුළින් ගම්‍ය වන ව්‍යාපාර පරිසර සාධකය කුමක් ද?
(ආ) ඉහත සිද්ධියෙහි ඇතුළත් වන 'විකුම් රබර් නිපාදුම්' ව්‍යාපාරයේ ඇල්මැගි පාර්ශ්ව දෙකක් ලියන්න.

(ලකුණු 02 යි)

(මුළු ලකුණු ෦෧ යි)

3. (i) වෙත්පතක් ලිවීමේ දී සලකා බැලිය යුතු කරුණු දෙකක් ලියන්න. (ලකුණු 02 යි)

(ii) පහත සඳහන් ප්‍රකාශ සත්‍ය ද අසත්‍ය ද යන්න දක්වන්න.

(අ) කොපතක් හෝ හරපතක් ලබා ගැනීමට බැංකු ගිණුමක් පවත්වාගෙන යාම අවශ්‍ය නොවේ.

(ආ) සන්නිවේදනය කති ක්‍රියාවක් නොව පොදු මූලිකාංග කිහිපයකින් සැකසී ඇති ක්‍රියාවලියකි.

(ඇ) ජීවිතයක් හෝ දේපලක් රක්ෂණය කිරීමට යම් පාර්ශ්වයකට ඇති අයිතිය උපරිම වියවාසයයි.

(ඈ) වෙත්පතක අණලියු සෑම විටම රංගම් ගිණුම් හිමියෙකු වේ. (ලකුණු 02 යි)

(iii) විශේෂ රැස්වීමක් මාර්තු 27 වන දින ප.ව. 3 ට පාසලේ දී පවත්වන බව දන්වා විදුහල්පතිතුමා සියලුම දෙමාපියන්ට ලිපි තැපැල් කරන ලදී.

(අ) ඉහත සිද්ධියේ සඳහන් වන, සන්නිවේදන මූලිකාංග දෙකක් ලියන්න.

(ආ) ඉහත (iii) (අ) සඳහා ඔබ සඳහන් කළ එක් එක් සන්නිවේදන මූලිකාංගය සඳහා නිදසුන බැගින් සිද්ධියෙන් උදාහරණ ලියන්න. (ලකුණු 02 යි)

(iv) කාර්යාල සේවා බස් රථ විදුලි රේලු වන සරත් සෑම දිනකම පෙ.ව. 5 ට මාතර බස් නැවතුම්පොළින් පිටත්ව අධිවේගී මාර්ගය ඔස්සේ පිටකොටුව මධ්‍යම බස් නැවතුම්පොළ දක්වා ගමන් කරයි. පිටකොටුව ඉන්ධන පිරවුම්හලින් බස් රථයට විසල් ලබා ගන්නා සරත් එදිනම ප.ව. 5 ට මාතර බලා පිටත් වේ.

ප්‍රවාහන මූලිකාංග වන මාර්ගය, මාධ්‍ය, බලය සහ පර්යන්තය සඳහා නිදසුන් ඉහත සිද්ධිය ඇසුරෙන් වෙන වෙනම ලියන්න. (ලකුණු 02 යි)

(මුළු ලකුණු 08 යි)

4. (i) ආයෝජන මාර්ගයක් තෝරා ගැනීමේ දී සලකා බැලිය යුතු කරුණු දෙකක් ලියන්න. (ලකුණු 02 යි)

(ii) පහත සඳහන් ප්‍රකාශ සත්‍ය ද අසත්‍ය ද යන්න දක්වන්න.

(අ) කළමනාකරණ ක්‍රියාවලියේ ඉතා වැදගත්ම කළමනාකරණ කාර්යය මෙහෙයවීමයි.

(ආ) ව්‍යාපාරයක අලෙවිය වැඩිකර ගැනීම සඳහා යොදාගන්නා විවිධ උපක්‍රම අලෙවිකරණ මිශ්‍රයේ ප්‍රවර්ධනයයි.

(ඇ) ආයෝජනයක අවදානම සහ ප්‍රතිලාභය අතර සෘජු සම්බන්ධතාවක් පවතී.

(ඈ) සංස්ථාපිත සමාගම්වල කෙටිකාලීන මූල්‍ය අවශෝෂා සපුරාගැනීමට භාණ්ඩාගාර බිල්පත් නිකුත් කරනු ලබයි.

(ලකුණු 02 යි)

(iii) 'අමරස නිපැයුම්' ව්‍යාපාරය විසින් නිෂ්පාදනය කරනු ලැබූ 'කොස් ඇට පිටි' හඳුන්වාදීමේ කටයුතු ඉතා සාර්ථකව සිදුවිය. ඒ සඳහා අනුගමනය කළ පියවර කිහිපයක් පහත දැක්වේ.

A - කොස් ඇට පිටි පැකට්ටුවේ ඇසුරුම් පරිසර හිතකාමී ලෙස සකස් කිරීමට තීරණය කිරීම

B - පළමු මාසයේ විකුණුම් වාර්තා විශ්ලේෂණය කිරීමෙන් පසු විකුණුම් මිල මත 2% ක වට්ටමක් ලබා දීම

C - සෘජු බෙදාහැරීම් කටයුතු සඳහා විකුණුම් සේවකයින් බඳවා ගැනීම

ඉහත එක් එක් පියවරෙහි සඳහන් වන කළමනාකරණ ක්‍රියාවලියේ කාර්යය සහ අලෙවිකරණ මිශ්‍රයේ විචල්‍ය ලියන්න. (පිළිතුරු සැපයීම සඳහා පහත ආකාරයේ ආකෘතියක් භාවිත කරන්න. පළමු පියවර (A) සටහන් කර දක්වා ඇත.)

පියවර	කළමනාකරණ කාර්යය	අලෙවිකරණ මිශ්‍රයේ විචල්‍යය
A	සැලසුම්කරණය	නිෂ්පාදිතය
B		
C		

(ලකුණු 02 යි)

(iv) රුවන් කම රු. 500 000 ක විශ්‍රාම පාරිභෝගිකය ස්ථාවර තැන්පතු වක ද, නුවන් කම රු. 500 000 ක විශ්‍රාම පාරිභෝගිකය කොළඹ කොටස් වෙළෙඳපොළෙහි ද ආයෝජනය කරන ලදී. එසේම අවසානයේ රුවන්ට රු. 40 000 ක් ද, නුවන්ට රු. 75 000 ක් ද ප්‍රතිලාභ ලෙස හිමි විය.

(අ) ඉහත සිද්ධියේ රුවන් සහ නුවන් ලද ප්‍රතිලාභ හඳුන්වන පද වෙන වෙන ම ලියන්න.

(ආ) සමාන මුදලක්, සමාන කාල පරිච්ඡේදයක් සඳහා ආයෝජනය කළ ද, රුවන්ට වඩා වැඩි ප්‍රතිලාභයක් නුවන්ට ලැබීමට හේතුව කුමක් ද?

(ලකුණු 02 යි)

(මුළු ලකුණු 08 යි)

/දහවැස්ස මලක්ක

II කොටස - ගිණුම්කරණය
(ප්‍රශ්න දෙකකට පමණක් පිළිතුරු සපයන්න.)

(ලකුණු 02 යි)

5. (i) ව්‍යාපාරයක ලෙඳරයේ දැකිය හැකි වගකීම් ගිණුම් දෙකක් ලියන්න.
(ii) ව්‍යාපාරයක සිදුවූ ගනුදෙනු දෙකකට අදාළ ද්විත්ව කටහත් පහත දැක්වේ.

(අ) ගැනුම් ගිණුම	හර	රු.	20 000
ණයහිමි ගිණුම	බැර	රු.	20 000
(ආ) මුදල් ගිණුම	හර	රු.	4 500
දුන් වට්ටම් ගිණුම	හර	රු.	500
ණයගැහි ගිණුම	බැර	රු.	5 000

(ලකුණු 02 යි)

ඉහත සිදු වී ඇති එක් එක් ගනුදෙනුව ලියන්න.

- (iii) වාමරයේ ව්‍යාපාරයේ 2020.01.01 දිනට පැවති පියවූම් වත්කම් සහ වගකීම් යේද පහත දැක්වේ.

ලී බඩු	රු.	250 000
බඩු භෝගය	රු.	140 000
ණයහිමියෝ	රු.	20 000
බැංකු ණය	රු.	100 000
මුදල්	රු.	30 000

2020.01.07 දිනෙන් අවසන් සතිය තුළ සිදු වූ ගනුදෙනු කිහිපයක් පහත දැක්වේ.

- රු. 20 000 ක බඩු භෝගයක් ණයට ගැනීම
- රු. 3 000 ක සේවක වැටුප් ගෙවීම
- පිටිවැය රු. 40 000 ක් වූ බඩු භෝගයක් රු. 50 000 කට අත්පිට මුදලට විකිණීම

අවසන් වන්න:

- (අ) ඉහත ගනුදෙනු ගිණුම්කරණ සමීක්ෂණයට බලපාන ආකාරය දැක්වීම
(පිළිතුරු පැවසීම සඳහා පහත ආකාරයේ ආකෘතියක් භාවිත කරන්න.)

ගනුදෙනුව	වත්කම් (රු.)			=	ගිණිකම් (රු.)	+	වගකීම් (රු.)	
	ලී බඩු	බඩු භෝගය	මුදල්	=	ගිණිකම්	+	බැංකු ණය	ණයහිමියෝ
1.				=		+		
2.				=		+		
3.				=		+		

- (ආ) ඉහත ගනුදෙනුවලට පසු 2020.01.07 දිනට ව්‍යාපාරයේ පහත අයිතමිවල යේද දැක්වීම

(1) මුදල් (2) හිමිකම (ලකුණු 04 යි)

- (iv) රාහුල්ගේ ව්‍යාපාරයේ 2020 දෙසැම්බර් මාසයේ මුදල් ගනුදෙනු පහත වගුවේ දැක්වේ. 2020.12.01 දිනට මුදල් යේදය රු. 12 500 ක් විය.

දිනය	ලදපත් අංකය	වටුටර් අංකය	විස්තරය	වටහාකම් (රු.)
2020.12.02	01	-	බැංකු ණයක් ගැනීම	50 000
2020.12.05	-	001	බඩු භෝගයක් ගැනීම	45 000
2020.12.10	-	002	කඩකුලී ගෙවීම	1 500
2020.12.15	02	-	අත්පිට මුදලකුණු	25 000
2020.12.20	03	-	ණයගැහියෙකුගෙන් මුදල් ලැබීම	10 000
2020.12.30	-	003	සේවක වැටුප් ගෙවීම	30 000

අවසන් වන්න:

ඉහත ගනුදෙනු රාහුල්ගේ ව්‍යාපාරයේ මුදල් පොතේ සටහන් කර 2020.12.31 දිනට මුදල් පොත තුළතය සිරිම

(ලකුණු 04 යි)

(ලකුණු 12 යි)

6. (i) මුදල් පොත තුළින් අඩු කරන කර්ම දෙකක් ලියන්න. (ලකුණු 02 යි)
 (ii) සපයනු නිෂ්පාදන ව්‍යාපාරයක නුපුහුණු ගිණුම් ලිපිකරුවකු විසින් 2020 ජෛෂ්ඨවර්ෂ ඡායය සඳහා පිළියෙල කළ නිෂ්පාදන පිරිවැය ලේඛනය පහත දැක්වේ.

	(රු.)
සම් සඳහා පිරිවැය	30 000
සපයනු සකසන්නාගේ වැටුප	15 000
සම්පාත්ත භාලාවේ කුලිය	30 000
ප්‍රවාහණය	10 000
සපයනු ඇලවීමේ ද්‍රව්‍ය	5 000
බෙදාහැරීමේ ලොරි රථ පියවුරුගේ වැටුප	10 000
මුළු නිෂ්පාදන පිරිවැය	100 000

- නිෂ්පාදනය කළ සපයනු කුට්ටම් ගණන 200 යි.
- සපයනු කුට්ටම්ක නිෂ්පාදන පිරිවැය ගණනය කරන්න. (ලකුණු 02 යි)

- (iii) කළුන්ගේ ව්‍යාපාරයේ 2020.12.31 දිනට පිළියෙල කළ ශේෂ පිරික්සුමේ හර හා බැර නිරූපිත එකතුව සමාන නොවී ය. වෙනසට හේතු පහත දැක්වේ.
- වෙළු විදුලි ගාස්තු රු. 7000 මුදල් පොතේ නිවැරදිව සටහන් කර විදුලි ගාස්තු ගිණුමට රු. 700 ක් ලෙස හර නිරීම
 - විකුණුම් ගිණුමේ බැර පැහැන රු. 2000 ක් අඩුවෙන් එකතු වී තිබීම
 - යන්ත්‍ර අලුත්වැඩියා වියදම් රු. 15000 යන්ත්‍ර ගිණුමට හර කර තිබීම
 - ලද වට්ටම් ගිණුමේ ශේෂය වූ රු. 2300 ශේෂ පිරික්සුමට උපුටාගෙන නොතිබීම

අවශ්‍ය වන්නේ:

- (අ) අවිනිශ්චිත ගිණුම
- (ආ) 2020.12.31 දිනට පිළියෙල කළ ශේෂ පිරික්සුමෙහි අවිනිශ්චිත ගිණුමේ ශේෂය පැවතියේ කුමන නිරුවේ ද යන්න සඳහන් කිරීම (ලකුණු 04 යි)

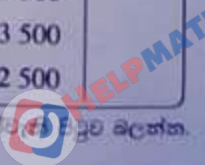
- (iv) පහත දැක්වෙන්නේ පිරිමල්ගේ ව්‍යාපාරයේ 2020 දෙසැම්බර් මාසයේ බැංකු ගිණුම හා බැංකුවෙන් ලද බැංකු ප්‍රකාශනයයි.

බැංකු ගිණුම

දිනය	ලද අං.	විස්තරය	ස.පි	වටහාසම් (රු.)	දිනය	වඩු අං.	විස්තරය	ස.පි	වටහාසම් (රු.)
12.01		ශේෂය 9/ගෙ		22 000	12.05		ගැනුම් (812301)		20 000
12.08		වෙස් තැන්පත් (711322)		15 500	12.10		ණයහිමි (812302)		3 000
12.10		මුදල් තැන්පත්		25 000	12.16		වේතන (812303)		24 000
12.28		වෙස් තැන්පත් (100100)		12 000	12.26		කඩකුලී (812304)		5 000
					12.31		ශේෂය ප/ගෙ		22 500
				74 500					74 500

බැංකු ප්‍රකාශනය

දිනය	විස්තරය	හර (රු.)	බැර (රු.)	ශේෂය (රු.)
12.01	ශේෂය 9/ගෙ			22 000
12.07	වෙස් (812301)	20 000		2 000
12.10	වෙස් තැන්පත්		15 500	17 500
12.10	වෙස් (812302)	3 000		14 500
12.10	මුදල්		25 000	39 500
12.20	වෙස් (812303)	24 000		15 500
12.23	ස්ථාවර නියෝග ගෙවීම් (රක්ෂණ ගාස්තු)	2 000		13 500
12.30	බැංකු ගාස්තු	1 000		12 500



අවශ්‍ය වන්නේ:

- (අ) සිරිමල්ගේ ව්‍යාපාරයේ 2020.12.31 දිනට බැංකු ගිණුමේ ශේෂය සහ බැංකු ප්‍රකාශනයේ ශේෂය අසමාන වීමට හේතු ලිවීම
- (ආ) සිරිමල්ගේ ව්‍යාපාරයේ 2020.12.31 දිනට බැංකු ගිණුමේ ශේෂය සංශෝධනය කිරීම (ලකුණු 04 යි)
(මුළු ලකුණු 12 යි)

7. (i) ලාභ අරමුණු කර නොගත් සංවිධානයක ලැබීම් හා ගෙවීම් ගිණුම් සහ ආදායම් ප්‍රකාශනය අතර ඇති වෙනස්කම් දෙකේ ලියවන්න. (ලකුණු 02 යි)
- (ii) රත්නරූ ළමා සමාජයේ සාමාජික සංඛ්‍යාව 50 කි. එක් සාමාජිකයකුගේ මාසික සාමාජික ගාස්තුව රු. 100 කි. 2020.12.31 දිනෙන් අවසන් වර්ෂයේ සිදු වූ ගනුදෙනු පහත දැක්වේ.

	රු.
2020 වර්ෂයේ දී ලැබුණු සාමාජික මුදල	40 000
පරණ පුවත්පත් අලෙවියෙන් ලද මුදල	500
විදුලි බිල ගෙවීම.....	12 000
සංග්‍රහ වියදම් ගෙවීම	1 500
ලී බඩු මිලදී ගැනීම සඳහා ගෙවීම	100 000
වෙනත් වියදම් ගෙවීම.....	2 500

- ලී බඩු වාර්ෂිකව 10% බැගින් ක්ෂය කරනු ලැබේ.
- 2020.12.31 දිනෙන් අවසන් වර්ෂය සඳහා රත්නරූ ළමා සමාජයේ ආදායම් ප්‍රකාශනය පිළියෙල කරන්න. (ලකුණු 02 යි)

- (iii) සිත්මිණගේ වෙළෙඳ ව්‍යාපාරයේ 2020.12.31 දිනට ශේෂ පිරික්සුම් පහත දැක්වේ.

	හර (රු.)	බැර (රු.)
2020.01.01 දිනට නොගත	28 000	
ගැනුම්	350 000	
ගෙන ඒමේ කුලී.....	1 500	
විකුණුම්		480 000
ණයගැනියෝ	37 000	
ණයගිමියෝ		50 000
ආයෝජන	50 000	
විදුලි ගාස්තු	25 000	
මුදල් ශේෂය.....	40 000	
බැංකු ශේෂය		12 000
දුන් වට්ටම්	1 200	
ලද වට්ටම්		2 700
ඉඩම් සහ ගොඩනැගිලි (පිරිවැයට)	400 000	
ප්‍රචාරණ වියදම්	20 000	
8% බැංකු ණය		100 000
ප්‍රාග්ධනය		308 000
	<u>952 700</u>	<u>952 700</u>

අතිරේක තොරතුරු:

- 2020.12.31 දිනට ඉතිරි නොගත රු. 32 000 කි.
- 2020.12.31 දිනට ණයගැනියන්ගෙන් රු. 2 000 ක් බොල් ණය ලෙස කපා හරින ලදී.
- ලැබිය යුතු ආයෝජන ආදායම් රු. 5 000 කි.

අවශ්‍ය වන්නේ:

- (අ) 2020.12.31 දිනෙන් අවසන් වර්ෂය සඳහා ලාභ හෝ අලාභ ප්‍රකාශනය (ලකුණු 04 යි)
- (ආ) 2020.12.31 දිනට මූල්‍ය තත්ත්ව ප්‍රකාශනය (ලකුණු 04 යි)
(මුළු ලකුණු 12 යි)

