

නව නිර්දේශයාදුම් පාලන කමිටුව / New Syllabus

NEW	60 S I, II
-----	------------

අධ්‍යයන පොදු සහතික පත්‍ර (සාමාන්‍ය පෙළ) විභාගය, 2017 දෙසැම්බර්
கல்விப் பொதுத் தராதரப் பத்திர (சாதாரண தர)ப் பரீட்சை, 2017 டிசெம்பர்
General Certificate of Education (Ord. Level) Examination, December 2017

ව්‍යාපාර හා ගිණුම්කරණ අධ්‍යයනය	I, II	පැය තුනයි
வணிகக் கல்வியும் கணக்கீடும்	I, II	மூன்று மணித்தியாலம்
Business and Accounting Studies	I, II	Three hours

ව්‍යාපාර හා ගිණුම්කරණ අධ්‍යයනය I

- සැලකිය යුතුයි:**
- (i) සියලු ම ප්‍රශ්නවලට පිළිතුරු සපයන්න.
 - (ii) අංක 1 සිට 40 තෙක් ප්‍රශ්නවල, දී ඇති (1), (2), (3), (4) යන පිළිතුරුවලින් නිවැරදි හෝ වඩාත් ගැළපෙන හෝ පිළිතුර තෝරා ගන්න.
 - (iii) ඔබට සැපයෙන පිළිතුරු පත්‍රයේ එක් එක් ප්‍රශ්නය සඳහා දී ඇති කව අතුරෙන් ඔබ තෝරාගත් පිළිතුරෙහි අංකයට සැසඳෙන කවය තුළ (X) ලකුණ යොදන්න.
 - (iv) එම පිළිතුරු පත්‍රයේ පිටුපස දී ඇති අනෙක් උපදෙස් ද සැලකිල්ලෙන් කියවා, ඒවා සිළිපදින්න.

- පහත සඳහන් සිද්ධිය ඇසුරෙන් ප්‍රශ්න අංක 1 සිට 5 තෙක් ප්‍රශ්නවලට පිළිතුරු සපයන්න.
- 'ශක්ති කන්ස්ට්‍රක්ෂන්ස්' නමින්, පදිංචිය සඳහා ගෙවල් ඉදිකර දීමේ ව්‍යාපාරයක් පවත්වා ගෙන යන ශක්තිට 2016 වර්ෂයේ දී හොඳ ම ඉදිකිරීමේ සම්මානය හිමි විය. ශක්ති තමා විසින් ම පුළුල්ව සකස් කර ගන්නා ගඩොල් පමණක් සිය ඉදිකිරීම් කටයුතු සඳහා භාවිත කරයි.
1. මෙම සිද්ධියේ සඳහන් 'ශක්ති කන්ස්ට්‍රක්ෂන්ස්' ව්‍යාපාරය විසින් සපුරාලනු ලබන මූලික මිනිස් අවශ්‍යතාව කුමක් ද?

(1) ආහාර	(2) ආභුෂිත	(3) නිවාස	(4) අධ්‍යාපනය
----------	------------	-----------	---------------
 2. මෙම සිද්ධියේ සඳහන් 'ශක්ති කන්ස්ට්‍රක්ෂන්ස්' ව්‍යාපාරය අයත් වන ව්‍යාපාර සංවිධාන වර්ගය කුමක් ද?

(1) ඒක පුද්ගල ව්‍යාපාර	(2) හවුල් ව්‍යාපාර	(3) සංස්ථාපිත සමාගම්	(4) සමිති සංවිධාන
------------------------	--------------------	----------------------	-------------------
 3. 'ශක්ති කන්ස්ට්‍රක්ෂන්ස්' ව්‍යාපාරය විසින් භාවිත කරනු ලබන ගඩොල් අයත් වන නිෂ්පාදන සාධකය වනුයේ

(1) භූමිය ය.	(2) ශ්‍රමය ය.	(3) ප්‍රාග්ධනය ය.	(4) ව්‍යවසායකත්වය ය.
--------------	---------------	-------------------	----------------------
 4. ඉහත සිද්ධියේ සඳහන් 'ශක්ති කන්ස්ට්‍රක්ෂන්ස්' ව්‍යාපාරය සම්බන්ධ නිවැරදි ප්‍රකාශය තෝරන්න.

(1) මෙම ව්‍යාපාර නාමය ලියාපදිංචි කිරීම අනිවාර්ය නොවේ.
(2) මෙම ව්‍යාපාරයේ ගඩොල් සඳහා වන පිරිවැය සෘජු නිෂ්පාදන පිරිවැයකි.
(3) මෙම ව්‍යාපාරයට නීතිමය පුද්ගලභාවයක් ඇත.
(4) මෙම ව්‍යාපාරය සම්බන්ධව ශක්තියේ වගකීම සීමිත ය.
 5. ගෙවල් ඉදිකිරීම සඳහා ශක්ති විසින් ම නිපදවන ගඩොල් ලබා දීම අයත් වන කළමනාකරණ කාර්යය වන්නේ

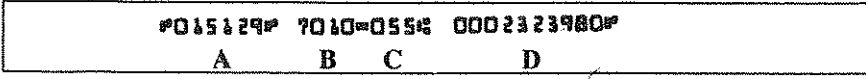
(1) සැලසුම්කරණය ය.	(2) සංවිධානකරණය ය.	(3) මෙහෙයවීම ය.	(4) පාලනය ය.
--------------------	--------------------	-----------------	--------------
 6. ව්‍යාපාර කටයුතු කෙරෙහි උනන්දුවක් දක්වන පාර්ශ්වයන්හි අරමුණු කිහිපයක් පහත දැක්වේ.

A - සාධාරණ වැටුපක් ලබා ගැනීම
B - බදු අයකර ගැනීම
C - අධිකාරීව ඇණවුම් ලබා ගැනීම


ඉහත A, B හා C යන අරමුණු ඉටු කර ගැනීමට උනන්දුවක් දක්වන පාර්ශ්ව පිළිවෙලින් දැක්වෙන පිළිතුර තෝරන්න.

(1) සේවකයෝ, රජය, සැපයුම්කරුවෝ	(2) සේවකයෝ, අයිතිකරුවෝ, සැපයුම්කරුවෝ
(3) සේවකයෝ, මූල්‍ය ආයතන, තරගකරුවෝ	(4) කළමනාකරුවෝ, රජය, අයිතිකරුවෝ
 7. ව්‍යාපාරයක අයිතිකරු ව්‍යාපාර කළමනාකරණය පිළිබඳ පශ්චාත් උපාධිය නිම කිරීම ඔහුගේ ව්‍යාපාරයට

(1) ශක්තියකි.	(2) දුර්වලතාවකි.	(3) අවස්ථාවකි.	(4) තර්ජනයකි.
---------------	------------------	----------------	---------------
 8. පහත දැක්වෙන්නේ වෙස්පතක මුම්භක තීන්ත අක්ෂර හැඳුනුම් තීරුවකි.



- ඉහත A හා C අක්ෂරවලින් දැක්වෙන අංක පිළිවෙලින් නිරූපණය කරනුයේ,
- | | |
|--|-------------------------------------|
| (1) ගිණුම් අංකය හා බැංකු ශාඛා අංකය ය. | (2) බැංකුවේ අංකය හා ගිණුම් අංකය ය. |
| (3) වෙස්පන් අංකය හා බැංකු ශාඛා අංකය ය. | (4) වෙස්පන් අංකය හා බැංකුවේ අංකය ය. |



93071

9. සේපාලගේ නමට ලැබුණු රේඛිත වෙක්පත, ඔහු ගාල්ල මහජන බැංකුවේ ඇති තම ජංගම ගිණුමේ තැන්පත් කිරීමට ඉදිරිපත් කළ විට, බැංකු නිලධාරියා විසින් එය තැන්පත් කළ නොහැකි බව දැනුම් දෙන ලදී. එම වෙක්පතෙහි සඳහන් වූ රේඛනය කුමක් ද?

- (1) ගනුදෙනු කළ නොහැකිය (2) ආදායකයාගේ ගිණුමට පමණි (3) මහජන බැංකුව-ගාල්ල (4) ලංකා බැංකුව-ගාල්ල

10. සඳුන්ට හිමි රු. 1 000 000 ක් වටිනා මෝටර් රථය ඔහු එම වටිනාකමට ම රක්ෂණය කර තිබුණි. හදිසි අනතුරකින් එම මෝටර් රථයට රු. 400 000 ක හානියක් සිදු විය. සඳුන් ඒ වෙනුවෙන් රු. 1 000 000 ක වන්දියක් රක්ෂණ සමාගමෙන් ඉල්ලා සිටී. ඔහුට රක්ෂණ සමාගමෙන් ලැබෙන වන්දි මුදල කොපමණ ද?

- (1) රු. 400 000 (2) රු. 600 000 (3) රු. 1 000 000 (4) රු. 1 400 000

11. විද්‍යුත් තැපැල් පණිවුඩය (1) අභ්‍යන්තර, විද්‍යුත්, වාචික සන්නිවේදන ක්‍රමයකි. (2) බාහිර, විද්‍යුත්, වාචික සන්නිවේදන ක්‍රමයකි. (3) බාහිර, විද්‍යුත්, සංඥා සන්නිවේදන ක්‍රමයකි. (4) බාහිර, විද්‍යුත්, ලිඛිත සන්නිවේදන ක්‍රමයකි.

12. කොළඹ වරාය ප්‍රවාහන මූලිකාංගයක් වන^①..... වන අතර, කොළඹ වරායට පැමිණි නෙවෙස්කා ලේඩි (Neveska Lady) නෞකාව ප්‍රවාහන මූලිකාංගයක් වන^②..... වේ. ඉහත ප්‍රකාශයේ ① සහ ② යන ස්ථානවලට අදාළ නිවැරදි යෙදුම් පිළිවෙලින් දැක්වෙන පිළිතුර තෝරන්න. (1) මාධ්‍යය, පර්යන්තය (2) පර්යන්තය, මාධ්‍යය (3) පර්යන්තය, බලය (4) මාර්ගය, මාධ්‍යය

13. පහත අවස්ථා අතුරෙන් තොග වෙළෙඳාමක් වනුයේ, (1) උඩවලව ඇත් අතුරු සෙවනේ අලින්ට දීම සඳහා කිරිහළක් කිරි පැකට් 100 ක් විකිණීම ය. (2) රාධා, දුම්රියේ යන මගීන්ට රටකපු විකිණීම ය. (3) උළු මෝලක් උළු 1 000 ක් හානියට සිය නිවස සෙවිලි කිරීම සඳහා විකිණීම ය. (4) මලින් කොළඹ මල් ශාලා හිමියන්ට කුඩා ප්‍රමාණවලින් මල් විකිණීම ය.


14. කළමනාකරණය හා සම්බන්ධ පහත ප්‍රකාශ අතුරෙන් නිවැරදි ප්‍රකාශය තෝරන්න. (1) කළමනාකරුවන් විසින් සේවකයින් කළ යුතු කාර්යයන් පිළිබඳව දැනුවත් කිරීම හා ඔවුන් එම කාර්යයන්ට යොමු කිරීම සංවිධානකරණයයි. (2) ව්‍යාපාරයක අරමුණු තීරණය කිරීම හා එම අරමුණු ඉටු කර ගැනීමේ ක්‍රම තීරණය කිරීම සැලසුම්කරණයයි. (3) සැලසුම් කරන ලද අරමුණ ක්‍රියාත්මක කිරීමේ දී ව්‍යාපාරයේ මානව සම්පත් තිසි ලෙස හැසිරවීම පාලනයයි. (4) සැලසුම් කළ පරිදි ගුණත්වයෙන් යුතු භාණ්ඩ නිෂ්පාදනය කර ඇත් දැයි සොයා බැලීම මෙහෙයවීමයි.

15. පහත X නිරුවේ ව්‍යාපාර කිහිපයක් ද, Y නිරුවේ ඉලක්ක පාරිභෝගික කණ්ඩායම් කිහිපයක් ද දැක්වේ.

X	Y
1. සුවසෙවණ ආරෝග්‍ය ශාලාව	A - පාසල් සිසුන්
2. හරිත නිවාඩු නිකේතනය	B - පාඨකයින්
3. දිමුතු පාසල් නිල ඇඳුම් සපයන්නෝ	C - රෝගීන්
4. මහජන පුස්තකාලය	D - සංචාරකයින්

ඉහත X නිරුවේ සඳහන් ව්‍යාපාර Y නිරුවේ සඳහන් ඉලක්ක පාරිභෝගික කණ්ඩායම් සමඟ පිළිවෙලින් ගැළපූ විට ලැබෙන පිළිතුර වන්නේ (1) A, C, B හා D ය. (2) B, C, D හා A ය. (3) C, B, A හා D ය. (4) C, D, A හා B ය.

16. සාමාන්‍ය කොටස්හි ආයෝජනය කිරීමෙන් ලැබෙන ප්‍රතිලාභයක් නොවන්නේ (1) ලාභාංශ ආදායම් ය. (2) පොලී ආදායම් ය. (3) ඡන්ද බලය ය. (4) ප්‍රාග්ධන ලාභය ය.



17. පහත දැක්වෙන්නේ ව්‍යාපාරයක සිදු වූ ගනුදෙනුවකි.
 * රු. 50 000 ක් වූ බඩු තොගයක් අත්පිට මුදලට ගැනීම මෙම ගනුදෙනුව නිසා ව්‍යාපාරයේ,
 (1) වත්කම් පමණක් වෙනස් වේ. (2) වගකීම් පමණක් වෙනස් වේ.
 (3) වත්කම් හා වගකීම් පමණක් වෙනස් වේ. (4) වත්කම්, වගකීම් හා හිමිකම් යන සියල්ල ම වෙනස් වේ.
18. පහත ගනුදෙනු අතුරෙන් හිමිකමට බලපෑමක් ඇති හොඳම ගනුදෙනුව තෝරන්න.
 (1) වරිපණම් ගාස්තු රු. 400 ක් මුදලින් ගෙවීම
 (2) අමතර ආදායම් රු. 500 ක් මුදලින් ලැබීම
 (3) අයිතිකරු තම පෞද්ගලික මුදලින් ණයහිමියන්ට රු. 5 000 ක් ගෙවීම
 (4) රු. 2 000 ක උපවින විදුලි ගාස්තු මුදලින් ගෙවීම
- පහත සඳහන් සිද්ධිය ඇසුරෙන් ප්‍රශ්න අංක 19 හා 20 ට පිළිතුරු සපයන්න.
 * නිසර ව්‍යාපාරය රු. 20 000 ක් පිරිවැය වූ බඩු තොගයක් ණයට ගන්නා ලදී. එහි දී අඩු කළ වෙළෙඳ වට්ටම 10% කි. මුදල් ගෙවීමේ දී 10% ක මුදල් වට්ටමක් ද හිමි විය.
19. ඉහත සිද්ධියේ සඳහන් ගනුදෙනු නිසර ව්‍යාපාරයේ ගිණුම්කරණ සමීකරණය යටතේ දැක්වූ විට, වත්කම්වලට වන ශුද්ධ බලපෑම වනුයේ
 (1) රු. 1 800 කින් අඩු වීම ය. (2) රු. 1 800 කින් වැඩි වීම ය.
 (3) රු. 18 000 කින් අඩු වීම ය. (4) රු. 20 000 කින් වැඩි වීම ය.
20. නිසර ව්‍යාපාරයේ මුදල් ගෙවීම සම්බන්ධ නිවැරදි ද්විත්ව සටහන කුමක් ද?
 (1) ණයහිමි ගිණුම හර රු. 18 000 (2) ණයහිමි ගිණුම හර රු. 20 000
 මුදල් ගිණුම බැර රු. 18 000 (3) මුදල් ගිණුම බැර රු. 20 000
 (3) ණයහිමි ගිණුම හර රු. 18 000 (4) ණයහිමි ගිණුම හර රු. 20 000
 මුදල් ගිණුම බැර රු. 16 200 (5) මුදල් ගිණුම බැර රු. 18 000
 ලද වට්ටම් ගිණුම බැර රු. 1 800 (6) ලද වට්ටම් ගිණුම බැර රු. 2 000
21. ව්‍යාපාරයක ලෙජරයේ දැක්වෙන විකුණුම් ගිණුම ①..... ගිණුමක් වන අතර, ගැනිලි ගිණුම ②..... ගිණුමක් වේ.
 ඉහත ප්‍රකාශයේ ① සහ ② යන ස්ථානවලට අදාළ නිවැරදි යෙදුම් පිළිවෙළින් දැක්වෙන පිළිතුර තෝරන්න.
 (1) ආදායම්, හිමිකම් (2) ආදායම්, වියදම්
 (3) වගකීම්, හිමිකම් (4) හිමිකම්, වියදම්
22. පහත සඳහන් ගනුදෙනු අතුරෙන් පොදු ජර්නලයේ සටහන් කළ යුතු ගනුදෙනුව තෝරන්න.
 (1) අයිතිකරු පෞද්ගලික ප්‍රයෝජනය සඳහා මුදලින් රු. 2 000 ක් ගැනීම
 (2) ණයගැතියන්ගෙන් රු. 2 000 ක් බොල් ණය ලෙස කපා හැරීම
 (3) ව්‍යාපාරයේ ප්‍රයෝජනය සඳහා රු. 100 000 ක් වටිනා යන්ත්‍රයක් අත්පිට මුදලට ගැනීම
 (4) ව්‍යාපාරයට රු. 10 000 ක් වටිනා බඩු තොගයක් ණයට ගැනීම
- පහත සඳහන් තොරතුරු ඇසුරෙන් ප්‍රශ්න අංක 23 හා 24 ට පිළිතුරු සපයන්න.
 * 2017 සැප්තැම්බර් 30 දිනට බැංකු ගිණුමේ ශේෂය රු. 14 100 ක් විය. පහත හේතු නිසා එදිනට බැංකු ප්‍රකාශනයේ ශේෂය වෙනස් විය.
 A - තැන්පත් කළ නමුත් නිෂ්කාශනය නොවූ චෙක්පත් රු. 8 000 කි.
 B - බැංකුවට සෘජුව ම ලැබී ඇති ණයගැති ප්‍රේෂණ රු. 2 500 කි.
 C - ස්ථාවර නියෝග මත බැංකුව ගෙවා ඇති රක්ෂණ ගාස්තු රු. 3 500 කි.
23. ඉහත හේතු අතුරෙන් බැංකු ගිණුමේ ශේෂය බැංකු ප්‍රකාශනයේ ශේෂයට වඩා වැඩි වීමට බලපාන හේතුව/හේතු වන්නේ
 (1) A පමණි. (2) B පමණි. (3) A හා C පමණි. (4) B හා C පමණි.
24. 2017 සැප්තැම්බර් 30 දිනට සංශෝධිත බැංකු ශේෂය
 (1) රු. 5 100 කි. (2) රු. 10 600 කි. (3) රු. 13 100 කි. (4) රු. 16 600 කි.
25. සරණගේ ව්‍යාපාරයේ සුළු මුදල් අග්‍රිමයේ වටිනාකම රු. 3 000 ක් විය. 2017 සැප්තැම්බර් මාසයේ සුළු මුදල් වියදම රු. 2 800 ක් විය. ඔක්තෝබර් 01 දින රු. 3 300 ක් අග්‍රිමය ප්‍රතිපූරණය කරන ලදී. සරණගේ ව්‍යාපාරයේ සුළු මුදල් සම්බන්ධ නිවැරදි ප්‍රකාශය තෝරන්න.
 (1) ඔක්තෝබර් මාසය සඳහා සුළු මුදල් අග්‍රිමයේ වටිනාකම රු. 3 500 කි.
 (2) සැප්තැම්බර් 30 වන දිනට සුළු මුදල් භාරකරු අත ඉතිරි මුදල රු. 500 කි.
 (3) සැප්තැම්බර් මාසයේ සුළු මුදල් වියදම රු. 3 300 කි.
 (4) ඔක්තෝබර් මාසයේ සිට සුළු මුදල් අග්‍රිමයේ වැඩි වීම රු. 300 කි.



93071

26. ගැනුම් ජර්නලය,
 (1) ලෙජර් ගිණුමකි. (2) මූලික සටහන් පොතකි.
 (3) මූලාශ්‍ර ලේඛනයකි. (4) මූල්‍ය ප්‍රකාශනයකි.

27. සුකිරි විසින් තම ව්‍යාපාරයේ නිෂ්පාදනය කරන කිරි හට්ටි 10 ක් තම නිවසේ උත්සවයක් සඳහා ලබා ගැනීම සටහන් කරනුයේ,
 (1) ගැනුම් ජර්නලයේ ය. (2) විකුණුම් ජර්නලයේ ය.
 (3) පොදු ජර්නලයේ ය. (4) ගැනුම් ගිණුමේ ය.

● පහත සඳහන් තොරතුරු ඇසුරෙන් ප්‍රශ්න අංක 28 හා 29 ට පිළිතුරු සපයන්න.

* ණයගැතියකුට දුන් වට්ටම් රු. 1 200 ව්‍යාපාරය විසින් සටහන් කර තිබූ ආකාරය දැක්වෙන ද්විත්ව සටහන පහත දැක්වේ.

දුන් වට්ටම් ගිණුම හර රු. 2 100
 ණයගැති ගිණුම බැර රු. 2 100

28. ඉහත සටහන නිසා,
 (1) ශේෂ පිරික්සුමේ හර හා බැර තීරුවල එකතුව අසමාන වේ.
 (2) අවිනිශ්චිත ගිණුමේ රු. 900 ක හර ශේෂයක් ඇති වේ.
 (3) දුන් වට්ටම් රු. 900 ක් වැඩියෙන් නියමිත ගිණුම්වල සටහන් කර ඇත.
 (4) දුන් වට්ටම් රු. 900 ක් වැඩියෙන් නියමිත ගිණුම්වල වැරදි පැත්තේ සටහන් කර ඇත.

29. ඉහත වරද නිවැරදි කිරීමේ ද්විත්ව සටහන වන්නේ,
 (1) ණයගැති ගිණුම හර රු. 900 (2) දුන් වට්ටම් ගිණුම හර රු. 900
 දුන් වට්ටම් ගිණුම බැර රු. 900 ණයගැති ගිණුම බැර රු. 900
 (3) දුන් වට්ටම් ගිණුම හර රු. 1 200 (4) ණයගැති ගිණුම හර රු. 2 100
 ණයගැති ගිණුම බැර රු. 1 200 දුන් වට්ටම් ගිණුම බැර රු. 2 100

30. සුපිරි ක්‍රීඩා සමාජයේ 2016.01.01 දිනට සිටි සාමාජික සංඛ්‍යාව 200 කි. එක් අයෙකුගේ මාසික සාමාජික ගාස්තුව රු. 50 කි. 2016 වර්ෂය තුළ දී සාමාජිකයින් 30 දෙනෙකු වර්ෂයට අදාළ සාමාජික මුදල් ගෙවා නැත.
 ඉහත ක්‍රීඩා සමාජය සම්බන්ධ වැරදි ප්‍රකාශය තෝරන්න.
 (1) 2016 වර්ෂයේ ආදායම් ප්‍රකාශයේ දැක්වෙන සාමාජික මුදල් ආදායම රු. 120 000 කි.
 (2) 2016 වර්ෂයේ ලැබීම් හා ගෙවීම් ගිණුමේ දැක්වෙන සාමාජික මුදල රු. 102 000 කි.
 (3) මාසික සාමාජික මුදල් ආදායම රු. 10 000 කි.
 (4) 2016 වර්ෂයේ හිඟ සාමාජික මුදල රු. 1 500 කි.

31. පහත හිස්තැන සඳහා නිවැරදි පිළිතුර තෝරන්න.

සෘජු ද්‍රව්‍ය පිරිවැය	+	සෘජු ශ්‍රම පිරිවැය	+	සෘජු වෙනත් පිරිවැය	+	=	මුළු නිෂ්පාදන පිරිවැය
-----------------------	---	--------------------	---	--------------------	---	-------	---	-----------------------

- (1) ප්‍රාථමික පිරිවැය (2) නිෂ්පාදන පොදු කාර්ය පිරිවැය
 (3) ඒකකයක නිෂ්පාදන පිරිවැය (4) ලාභාන්තිකය

32. මැටි ගඩොල් නිෂ්පාදන ව්‍යාපාරයක් පස් මිල දී ගැනීම සඳහා දරන ලද රු. 8 000 එම ව්‍යාපාරයේ,
 (1) ප්‍රාථමික පිරිවැයේ කොටසකි. (2) නිෂ්පාදන පොදු කාර්ය පිරිවැයේ කොටසකි.
 (3) වක්‍ර පිරිවැයේ කොටසකි. (4) වක්‍ර ද්‍රව්‍ය පිරිවැයේ කොටසකි.

33. 2015.01.01 දින රු. 600 000 ක් වටිනා යන්ත්‍රයක් මිල දී ගත් අතර එහි එලදායි ජීවිත කාලය වර්ෂ 5 කි. එම කාලය අවසානයේ යන්ත්‍රයේ සුන්බුන් අගය රු. 100 000 කි. 2016.12.31 දිනට මූල්‍ය තත්ත්ව ප්‍රකාශයේ දැක්විය යුතු සමුච්චිත ක්ෂය ප්‍රමාණය කොපමණ ද?
 (1) රු. 100 000 (2) රු. 120 000 (3) රු. 200 000 (4) රු. 240 000

34. 2016.07.01 දින ව්‍යාපාරයේ ගොඩනැගිල්ල රක්ෂණය කර වර්ෂයක රක්ෂණ ගාස්තු ලෙස රු. 18 000 ක් එදින ම ගෙවන ලදී.
 ඉහත ගනුදෙනුව සම්බන්ධයෙන් නිවැරදි ප්‍රකාශය තෝරන්න.
 (1) 2016.12.31 දිනෙන් අවසන් වර්ෂයේ, ලාභ හෝ අලාභ ප්‍රකාශයේ දැක්වෙන රක්ෂණ ගාස්තුව රු. 18 000 කි.
 (2) 2016.12.31 දිනට උපචිත රක්ෂණ ගාස්තු රු. 9 000 කි.
 (3) 2016.12.31 දිනට ජංගම වගකීම් රු. 9 000 කි.
 (4) 2016.12.31 දිනට ඉදිරියට ගෙවූ රක්ෂණ ගාස්තු රු. 9 000 කි.




● පහත සඳහන් තොරතුරු උපයෝගී කරගෙන අංක 35 සිට 40 තෙක් ප්‍රශ්නවලට පිළිතුරු සපයන්න.

සුමුදු 2016.01.01 දින රු. 330 000 ක් යොදා ආරම්භ කළ වෙළෙඳ ව්‍යාපාරයේ 2016.12.31 දිනෙන් අවසන් වර්ෂය සඳහා ආධුනික ගිණුම් ලිපිකරු විසින් පිළියෙල කළ මූල්‍ය ප්‍රකාශ පහත දැක්වේ.

ලාභ හෝ අලාභ ප්‍රකාශය			මූල්‍ය තත්ත්ව ප්‍රකාශය	
ආදායම්	රු.	රු.	වත්කම්	රු.
විකුණුම්	250 000		මෝටර් රථය	300 000
ලද වට්ටම්	3 000		ලී බඩු	100 000
		253 000	ණයගැතියෝ	30 000
			මුදල් ශේෂය	45 000
වියදම්				475 000
ගැනුම්	160 000		හිමිකම් හා වගකීම්	
ගෙන ඒමේ කුලී	5 000		ප්‍රාග්ධනය	330 000
ප්‍රචාරණ ගාස්තු	10 000		ඉද්ධ ලාභය	56 500
ගෙවල් කුලී	12 000		බැංකු ණය	50 000
බැංකු ණය පොලී	6 000		ණයහිමියෝ	36 000
විදුලි ගාස්තු	2 500		උපචිත බැංකු ණය පොලී	2 500
දුන් වට්ටම්	1 000			475 000
		(196 500)		
		56 500		
ඉද්ධ ලාභය				

35. මෙම ව්‍යාපාරයේ 2016.12.31 දිනෙන් අවසන් වර්ෂය සඳහා විකුණුම් පිරිවැය වනුයේ
 (1) රු. 160 000 කි. (2) රු. 165 000 කි. (3) රු. 196 500 කි. (4) රු. 253 000 කි.
36. මෙම ව්‍යාපාරයේ 2016.12.31 දිනෙන් අවසන් වර්ෂය සඳහා දළ ලාභය වනුයේ
 (1) රු. 85 000 කි. (2) රු. 88 000 කි. (3) රු. 90 000 කි. (4) රු. 93 000 කි.
37. මෙම ව්‍යාපාරයේ 2016.12.31 දිනෙන් අවසන් වර්ෂය සඳහා පිළියෙල කරන ලාභ හෝ අලාභ ප්‍රකාශයේ දැක්විය යුතු ආයතන හා පරිපාලන වියදම්වල එකතුව වනුයේ
 (1) රු. 11 000 කි. (2) රු. 12 000 කි. (3) රු. 14 500 කි. (4) රු. 31 500 කි.
38. මෙම ව්‍යාපාරයේ 2016.12.31 දිනෙන් අවසන් වර්ෂය තුළ දී මුදලින් ගෙවා ඇති බැංකු ණය පොලී ප්‍රමාණය කොපමණ ද?
 (1) රු. 2 500 කි. (2) රු. 3 500 කි. (3) රු. 6 000 කි. (4) රු. 8 500 කි.
39. මෙම ව්‍යාපාරයේ 2016.01.01 දින සිට 2016.12.31 දිනට හිමිකමේ වැඩි වීම
 (1) රු. 45 000 කි. (2) රු. 56 500 කි. (3) රු. 330 000 කි. (4) රු. 386 500 කි.
40. මෙම ව්‍යාපාරයේ 2016.12.31 දිනට මුළු වත්කම් හා මුළු වගකීම් පිළිවෙලින් දැක්වෙන පිළිතුර තෝරන්න.
 (1) රු. 475 000 හා රු. 475 000 (2) රු. 386 500 හා රු. 88 500
 (3) රු. 88 500 හා රු. 475 000 (4) රු. 475 000 හා රු. 88 500

**



- (ii) කෝලීන මෙන් ම භානුක ද සිල්ලර වෙළෙඳාමේ යෙදේ.
 (අ) ඉහත ප්‍රකාශයට ඔබ එකඟ වන්නේ ද?
 (ආ) ඔබේ පිළිතුරට හේතු දක්වන්න.
- (iii) මෙම සිද්ධියේ සඳහන් වන සැලසුම්කරණ කාර්යය සඳහා නිදසුනක් සහ සංවිධානකරණ කාර්යය සඳහා නිදසුනක් බැගින් ලියන්න.
- (iv) (අ) රජය විසින් පොලිතින් තහනම් කිරීමේ නීතියක් පැනවීම කුමන ව්‍යාපාර පරිසරයට අයත් ද?
 (ආ) 'බනානා ලීග්' ව්‍යාපාරයේ අභ්‍යන්තර පරිසරයට අයත් වන, සිද්ධියේ සඳහන් පාර්ශ්ව දෙකක් ලියන්න.
- (v) (අ) 2017 අගෝස්තු 01 දිනට 'බනානා ලීග්' ව්‍යාපාරයේ හිමිකම් කොපමණ ද?
 (ආ) 'බනානා ලීග්' ව්‍යාපාරය භාවිත කරන මූලික සටහන් පොත් දෙකක් නම් කරන්න.
- (vi) (අ) 2017 අගෝස්තු මාසයේ නිෂ්පාදන උපකරණ ක්ෂය ගිණුම්ගත කිරීමට අදාළ ජර්නල් සටහන ලියන්න.
 (ආ) 2017 අගෝස්තු 31 දිනට නිෂ්පාදන උපකරණවල ධාරණ අගය කොපමණ ද?
- (vii) 2017 අගෝස්තු මාසය සඳහා 'බනානා ලීග්' ව්‍යාපාරයේ මුදල් ගිණුම් පිළියෙල කර, 2017 අගෝස්තු 31 දිනට මුදල් ශේෂය ගණනය කරන්න.
- (viii) 2017 අගෝස්තු 31 දිනට 'බනානා ලීග්' ව්‍යාපාරයේ
 (අ) ජංගම වත්කමක් හා
 (ආ) ජංගම වගකීමක් අගයයන් සහිතව ලියන්න.
- (ix) 2017 අගෝස්තු 31 දිනට 'බනානා ලීග්' ව්‍යාපාරයේ මූලික ගිණුම්කරණ සමීකරණය අගයයන් සහිතව දක්වන්න.
- (x) (අ) 'බනානා ලීග්' ව්‍යාපාරය අගෝස්තු මාසය තුළ නිෂ්පාදනය කළ කෑම ඇසුරුමක පිරිවැය කොපමණ ද?
 (ආ) එක් කෑම ඇසුරුමක් විකිණීමේ දී තබා ගන්නා ලද ලාභය කොපමණ ද?

(ලකුණු 02 x 10 = 20 යි)

I කොටස - ව්‍යාපාර අධ්‍යයනය

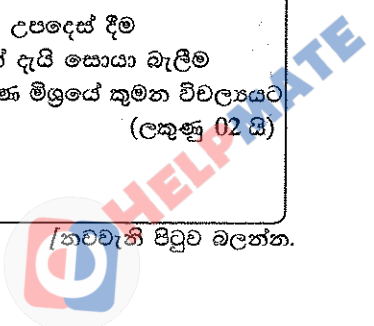
(ප්‍රශ්න දෙකකට පමණක් පිළිතුරු සපයන්න.)

2. (i) (අ) ව්‍යාපාරයක් යනු කුමක් ද?
 (ආ) ව්‍යාපාර කටයුතු පිළිබඳ උනන්දුවක් දක්වන පාර්ශ්ව දෙකක් ලියන්න. (ලකුණු 02 යි)
- (ii) පහත සඳහන් ප්‍රකාශ සත්‍ය ද අසත්‍ය ද යන්න දක්වන්න.
 (අ) ජීවත්වීම සඳහා මිනිසා විසින් අනිවාර්යයෙන් ම සපුරා ගත යුතු දෑ මිනිස් අවශ්‍යතා වේ.
 (ආ) නිෂ්පාදනය කරනු ලබන නිෂ්පාදිතවල ස්වභාවය අනුව ව්‍යාපාර පොදු හා පෞද්ගලික ලෙස වර්ග කෙරේ.
 (ඉ) නිෂ්පාදනයේ දී භාවිත කරන, මිනිසා විසින් සකස් කර ඇති දෑ නිෂ්පාදන සාධකයක් වන ශ්‍රමය වේ.
 (ඊ) සී/ස සමාගමක කොටස්කරුවන්ගේ වගකීම ඔවුන් සමාගමේ ආයෝජනය කළ ප්‍රාග්ධනයට සීමා වේ. (ලකුණු 02 යි)
- (iii) ශ්‍රී ලංකා ටෙලිකොම් (පීඑල්සී) හි සේවකයින් විසින් පවත්වාගෙන යනු ලබන සමගි ආපනශාලාවේ අලෙවි කිරීමට තබා ඇති, ජාතික පශු සම්පත් මණ්ඩලය (NLDB) මගින් සපයනු ලබන කිරි හට්ටි සඳහා ඉහළ ඉල්ලුමක් පවතී. පහත A, B, C හා D සඳහා ඉහත සිද්ධියේ සඳහන් වන නිදසුන බැගින් ලියන්න.
 A - සේවා සැපයීමේ ව්‍යාපාර
 B - රාජ්‍ය අංශයේ ව්‍යාපාර
 C - සමිති සංවිධාන
 D - සුභසාධනය අරමුණු කරගත් ව්‍යාපාර (ලකුණු 02 යි)
- (iv) සුනිමල් පදම් කළ හම් භාවිතයෙන් සපත්තු නිෂ්පාදනය කර අලෙවි කිරීමේ ව්‍යාපාරයක් පවත්වාගෙන යයි.
 (අ) සුනිමල්ගේ ව්‍යාපාරය විසින් සපුරාලනු ලබන මූලික මිනිස් අවශ්‍යතාව කුමක් ද?
 (ආ) සපත්තු නිෂ්පාදනය සඳහා භාවිත කරන පදම් කළ හම් ඉහත ව්‍යාපාරයේ නිෂ්පාදන සාධකයක් වන භූමියට අයත් වේ. ඔබ මෙම ප්‍රකාශය හා එකඟ වන්නේ ද? ඔබේ පිළිතුරට හේතු දක්වන්න. (ලකුණු 02 යි)
 (මුළු ලකුණු 08 යි)



3. (i) (අ) වෙක්පතක් යනු කුමක් ද?
 (ආ) රක්ෂණ මූලධර්ම දෙකක් ලියන්න. (ලකුණු 02 යි)
- (ii) පහත සඳහන් ප්‍රකාශ සත්‍ය ද අසත්‍ය ද යන්න දක්වන්න.
 (අ) රන් භාණ්ඩ උකසට ගන්නා බැංකුවකට ඔවුන් උකසට ගන්නා රන් භාණ්ඩ රක්ෂණය කළ හැකි ය.
 (ආ) සන්නිවේදන ක්‍රියාවලිය සම්පූර්ණ වීමට ප්‍රතිපෝෂණය අවශ්‍ය නැත.
 (ඉ) ඉතිරි කිරීමේ ගිණුමේ පවතින ශේෂය ඉක්මවා මුදල් ලබා ගැනීමට බැංකුව ලබා දෙන අවසරය බැංකු අයිරා පහසුකම වේ.
 (ඊ) කිසියම් රටක් වෙතත් රටකින් භාණ්ඩ තම රටට ගෙන්වීම අපනයන වෙළෙඳාම වේ. (ලකුණු 02 යි)
- (iii) (අ) “කොළඹ වරාය පුළුල් කිරීම මගින් ව්‍යාපාරික කටයුතු කාර්යක්ෂම වේ.”
 ඉහත ප්‍රකාශයේ සඳහන් ප්‍රවාහනයට සෘජුව ම සම්බන්ධ වන ප්‍රවාහන මූලිකාංගය නම් කරන්න.
 (ආ) සුමනිපාල යාපනයේ අර්තාපල් ගොවියකු වන රාමචන්ද්‍රන්ගෙන් විශාල තොග වශයෙන් අර්තාපල් මිල දී ගෙන සති පොළේ වෙළෙඳාම් කරන පියල්ට සහ තම නිවස ඉදිරිපිට තබා පාරිභෝගිකයින්ට විකුණන සුමනාට අලෙවි කරයි.
 ඉහත සිද්ධියේ සඳහන් තොග වෙළෙන්දෙකු හා සිල්ලර වෙළෙන්දෙකු පිළිවෙළින් නම් කරන්න. (ලකුණු 02 යි)
- (iv) රෙදිපිළි ව්‍යාපාරිකයකු වන තරංග පෙරේරා 2017.10.01 දින රු. 8 500 ක් වටිනා රෙදිපිළි තොගයක් ගාමිණී සිල්වාගෙන් මිල දී ගෙන වෙක්පතක් නිකුත් කරන ලදී.
 වෙක්පතක ආකෘතියක් පහත දැක්වේ.

- (අ) ඉහත වෙක්පත් ආකෘතියේ A, B, C හා D යන ස්ථානවල ලිවිය යුතු තොරතුරු සිද්ධියෙන් තෝරාගෙන ලියන්න.
 (ආ) ඉහත වෙක්පතේ අණකරු හා අණලදු වෙත වෙත ම දක්වන්න. (ලකුණු 02 යි)
4. (i) (අ) ඉලක්ක වෙළෙඳපොළ යනු කුමක් ද?
 (ආ) භාණ්ඩාගාර බිල්පත්වල ආයෝජනයෙන් ලැබෙන ප්‍රතිලාභ දෙකක් ලියන්න. (ලකුණු 02 යි)
- (ii) පහත සඳහන් ප්‍රකාශ සත්‍ය ද අසත්‍ය ද යන්න දක්වන්න.
 (අ) කොටස් වෙළෙඳපොළ කටයුතු විධිමත්ව හා සාධාරණව පවත්වාගෙන යාම ශ්‍රී ලංකා සුරැකුම්පත් හා විනිමය කොමිෂන් සභාවේ ප්‍රධාන අරමුණකි.
 (ආ) ආයෝජනයක අවදානම ඉහළ යන විට අපේක්ෂිත ප්‍රතිලාභය ද ඉහළ යයි.
 (ඉ) නිෂ්පාදිතයක් නිර්මාණය කිරීමේ සිට එය පාරිභෝගිකයා අතට පත් කිරීම දක්වා ක්‍රියාවලිය පමණක් අලෙවිකරණය වේ.
 (ඊ) සීමිත සම්පත්වලින් උපරිම ප්‍රයෝජන ගැනීම සඳහා ව්‍යාපාරයකට කළමනාකරණය අවශ්‍ය වේ. (ලකුණු 02 යි)
- (iii) පහත දැක්වෙන්නේ ව්‍යාපාරයක අලෙවි කළමනාකරුවකු විසින් කළ කාර්යන් හතරකි.
 A - නිෂ්පාදිත බෙදාහැරීම සඳහා වෑන් රථයක් මිල දී ගැනීම
 B - වර්තමාන නිෂ්පාදිතයේ ස්වරූපය වෙනස් කිරීමට තීරණය කිරීම
 C - පාරිභෝගිකයින් සමඟ සුභද සම්බන්ධතා පවත්වා ගැනීමට විකුණුම් සේවකයින්ට උපදෙස් දීම
 D - යෝජිත වටිමට ක්‍රියාත්මක කිරීමෙන් අපේක්ෂා කළ විකුණුම් ආදායම් උපයා ඇත් දැයි සොයා බැලීම
 ඉහත එක් එක් කාර්යය කුමන කළමනාකරණ කාර්යයට අයත් ද යන්න සහ අලෙවිකරණ මිශ්‍රයේ කුමන විචල්‍යයට අයත් ද යන්න වෙන වෙන ම දක්වන්න. (ලකුණු 02 යි)



(iv) ඉදිරි මාසය තුළ දී විශ්‍රාම යාමට අපේක්ෂිත, ඉහළ අවදානම් දැරීමට අකමැති බණ්ඩාර තම සේවක අර්ථ සාධක අරමුදලෙන් ලැබීමට නියමිත මුදල ආයෝජනය කිරීම සඳහා පහත ආයෝජන මාර්ග දෙක සලකා බලමින් සිටියි.

1. 15% ක වාර්ෂික පොලියක් හිමි ජ්‍යෙෂ්ඨ පුරවැසි ස්ථාවර තැන්පත් ගිණුමක ආයෝජනය කිරීම
2. කොටස් වෙළෙඳපොළේ 25% ක අපේක්ෂිත වාර්ෂික ප්‍රතිලාභයක් සහිත සාමාන්‍ය කොටස්වල ආයෝජනය කිරීම

- (අ) ඉහත ආයෝජන මාර්ගවලින් ඔබ බණ්ඩාරට යෝජනා කරන ආයෝජන මාර්ගය කුමක් ද?
 (ආ) ඔබ එම ආයෝජන මාර්ගය තෝරා ගැනීමට හේතු දක්වන්න. (ලකුණු 02 යි)
(මුළු ලකුණු 08 යි)

II කොටස - ගිණුම්කරණය

(ප්‍රශ්න දෙකකට පමණක් පිළිතුරු සපයන්න.)

5. (i) (අ) වගකීමක් යනු කුමක් ද?
 (ආ) ලෙජරයේ දැකිය හැකි ගිණුම් වර්ග දෙකක් ලියන්න. (ලකුණු 02 යි)
- (ii) පහත ගනුදෙනුවලට අදාළ ද්විත්ව සටහන් ලියන්න.
 (අ) අයිතිකරු පෞද්ගලික ප්‍රයෝජනය සඳහා මුදලින් රු. 2 000 ක් ගැනීම
 (ආ) ව්‍යාපාරයේ ප්‍රයෝජනය සඳහා ඔටෝ ට්‍රේඩර්ස් වෙතින් රු. 500 000 ක් වටිනා මෝටර් රථයක් ණයට ගැනීම (ලකුණු 02 යි)
- (iii) ව්‍යාපාරයක 2017.01.01 දිනට පැවති වත්කම්, වගකීම් හා හිමිකම් ශේෂ සහ ජනවාරි මාසයේ පළමු සතිය තුළ සිදු වූ ගනුදෙනු ගිණුම්කරණ සමීකරණය යටතේ සටහන් කර තිබූ ආකාරය පහත දැක්වේ.

		වත්කම් (රු.)	=	හිමිකම් (රු.)	+	වගකීම් (රු.)
2017.01.01	ශේෂය	200 000	=	150 000		50 000
	(1)	+ 25 000 (මුදල්)	=	-		+ 25 000 (බැංකු ණය)
	(2)	- 10 000 (බඩු තොගය)	=	+ 5 000 (ලාභය)		-
		+ 15 000 (ණයගැතියෝ)	=			
	(3)	- 7 000 (මුදල්)	=	- 7 000 (කඩ කුලී)		-
	(4)	- 6 000 (මුදල්)	=	-		- 6 000 (ණයහිමියෝ)

අවශ්‍ය වන්නේ:

- (අ) ඉහත එක් එක් ගනුදෙනුව අගයයන් සහිතව ලිවීම
 (ආ) සතිය තුළ දී මුළු වත්කම්වල සහ මුළු හිමිකම්වල වැඩි වීම හෝ අඩු වීම වෙත වෙන ම දැක්වීම (ලකුණු 04 යි)

(iv) ව්‍යාපාරයක 2017 මැයි මාසය සඳහා පිළියෙල කළ ගැනුම් ජර්නලය හා විකුණුම් ජර්නලය පහත දැක්වේ.

ගැනුම් ජර්නලය

දිනය	ඉන්:අංකය	සැටහුම්කරු	මුළු වටිනාකම (රු.)	ලෙ.පි
5/10	005	නාලක	4 800	
5/18	1008	වාසනා	15 000	

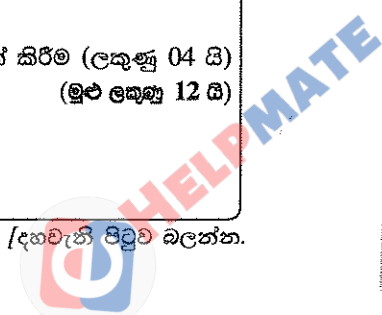
විකුණුම් ජර්නලය

දිනය	ඉන්:අංකය	ගැනුම්කරු	මුළු වටිනාකම (රු.)	ලෙ.පි
5/12	326	මදාරා	6 200	
5/26	327	විමල්	3 000	

අවශ්‍ය වන්නේ:

- (අ) ඉහත ගැනුම් ජර්නලය හා විකුණුම් ජර්නලය 2017 මැයි 31 දිනට සම්පූර්ණ කිරීම
 (ආ) ඉහත ගැනුම් ජර්නලයේ හා විකුණුම් ජර්නලයේ ගනුදෙනු ලෙජර ගිණුම්වලට පිටපත් කිරීම (ලකුණු 04 යි)
(මුළු ලකුණු 12 යි)

93065



6. (i) (අ) නිෂ්පාදන පිරිවැයේ මූලිකාංග නම් කරන්න. (ලකුණු 02 යි)
 (ආ) ගිණුම්කරණයේ දී වැරදි සිදු වන අවස්ථා දෙකක් ලියන්න.

(ii) බිලොක් ගල් නිෂ්පාදනය කරන ශක්ති ව්‍යාපාරයේ 2017 අගෝස්තු මාසයට අදාළ තොරතුරු කිහිපයක් පහත දැක්වේ.

- * බිලොක් ගලක පිරිවැය රු. 30
- * නිෂ්පාදන පොදුකාර්ය පිරිවැය රු. 20 000
- * මුළු නිෂ්පාදන පිරිවැය රු. 60 000
- * සෘජු ද්‍රව්‍ය පිරිවැය රු. 15 000
- * සෘජු වෙනත් වියදම් රු. 10 000

අවශ්‍ය වන්නේ:

(අ) අගෝස්තු මාසය තුළ නිෂ්පාදනය කළ බිලොක් ගල් ගණන
 (ආ) අගෝස්තු මාසය සඳහා සෘජු ශ්‍රම පිරිවැය (ලකුණු 02 යි)

(iii) පහත දැක්වෙන්නේ ගිණුම්කරණයේ දී සිදු වූ වැරදි කිහිපයකි.

- A - ණයට විකුණුම් රු. 4 500 විකුණුම් ජර්නලයේ සටහන් කර ඇත්තේ රු. 5 400 ක් ලෙස ය.
- B - ගෙවූ වර්පණම් ගාස්තු රු. 1 200 සටහන් කර ඇත්තේ මුදල් ගිණුමේ පමණි.
- C - රු. 8 000 ක් වූ විදුලි ගාස්තු ගිණුමේ ශේෂය, ශේෂ පිරික්සුමට උපුටා ගෙන නැත.
- D - රු. 6 000 ක ගැනුම් ඉන්වොයිසියක් සම්පූර්ණයෙන් ම පොත්වල සටහන් වී නැත.
- E - ගෙවූ රක්ෂණ ගාස්තු රු. 2 500 ක් වර්පණම් ගාස්තු ගිණුමට හර කර ඇත.
- F - දුන් වට්ටම් රු. 1 300 අදාළ ණයගැති ගිණුමේ රු. 3 100 ක් ලෙස සටහන් කර ඇත.

අවශ්‍ය වන්නේ:

ඉහත වැරදි අතුරෙන්
 (අ) ශේෂ පිරික්සුමේ සමානත්වයට බලනොපාන වැරදි
 (ආ) ශේෂ පිරික්සුමේ සමානත්වයට බලපාන වැරදි
 වෙන වෙන ම ලිවීම (ලකුණු 02 යි)

(iv) පහත දැක්වෙන්නේ 2017 සැප්තැම්බර් මාසය සඳහා ව්‍යාපාරයක් පිළියෙල කළ බැංකු ගිණුම් හා බැංකුවෙන් ලද බැංකු ප්‍රකාශනයයි.

බැංකු ගිණුම්


දිනය	ල.අ	විස්තරය	ස/පි	වටිනාකම (රු.)	දිනය	ව/අ	විස්තරය	ස/පි	වටිනාකම (රු.)
9/01		ශේෂය		18 500	9/07		ණයහිමි 667615		3 000
9/10		වෙක් තැන්පත් 562518		9 000	9/10		කඩකුලී 667616		4 000
9/22		වෙක් තැන්පත් 336215		16 000	9/28		ගැනුම් 667617		20 000
					9/30		ශේෂය ප/ග		16 500
				43 500					43 500

බැංකු ප්‍රකාශනය

දිනය	විස්තරය	හර (රු.)	බැර (රු.)	ශේෂය (රු.)
9/01	ශේෂය			18 500
9/08	667615	3 000		15 500
9/11	වෙක් තැන්පත් 562518		9 000	24 500
9/12	667616	4 000		20 500
9/25	සෘජු ප්‍රේෂණ		8 000	28 500
9/30	ස්ථාවර නියෝග (රක්ෂණ ගාස්තු)	5 000		23 500

අවශ්‍ය වන්නේ:

(අ) 2017.09.30 දිනට බැංකු ගිණුමේ ශේෂය සංශෝධනය කිරීම
 (ආ) 2017.09.30 දිනට බැංකු සැසඳුම් විස්තරය (ලකුණු 06 යි)
 (මුළු ලකුණු 12 යි)



7. (i) (අ) වෙළෙඳ ගිණුම පිළියෙල කිරීමේ අරමුණ කුමක් ද?
 (ආ) උපවිත වියදම් ගිණුම්ගත කිරීමට අදාළ ද්විත්ව සටහන ලියන්න. (ලකුණු 02 යි)
- (ii) මිණිමුතු ක්‍රීඩා සමාජයේ 2016 වර්ෂයේ සිටි සාමාජික සංඛ්‍යාව 100 ක් වන අතර එක් අයෙකුගේ වාර්ෂික සාමාජික ගාස්තුව රු. 100 කි. 2016 වර්ෂය සඳහා පිළියෙල කළ ලැබීම් හා ගෙවීම් ගිණුම පහත දැක්වේ.

ලැබීම් හා ගෙවීම් ගිණුම				
1/1	ශේෂය	12 000	ක්‍රීඩා උපකරණ ගැනුම්	8 000
	සාමාජික මුදල්	7 000	ක්‍රීඩාගාර වියදම්	3 000
			ක්‍රීඩා උපදේශක ගාස්තු	5 000
			12/31 ශේෂය ප/ගෙ	3 000
		<u>19 000</u>		<u>19 000</u>

අවශ්‍ය වන්නේ,
 2016.12.31 දිනෙන් අවසන් වර්ෂය සඳහා මිණිමුතු ක්‍රීඩා සමාජයේ ආදායම් ප්‍රකාශය (ලකුණු 02 යි)

(iii) රංගයේ වෙළෙඳ ව්‍යාපාරයේ 2016.12.31 දිනට ශේෂ පිරික්සුම පහත දැක්වේ.

	හර (රු.)	බැර (රු.)
ප්‍රාග්ධනය		200 000
බෙදාහැරීමේ රථ (පිරිවැයට)	250 000	
බෙදාහැරීමේ රථ ක්ෂය වෙන් කිරීම (2016.01.01 දිනට)		30 000
තොගය (2016.01.01 දිනට)	35 000	
12% බැංකු ණය		50 000
රක්ෂණ ගාස්තු	12 000	
විකුණුම්		220 000
ගැනුම්	170 000	
ණයගැතියෝ	30 000	
ණයහිමියෝ		40 000
ලද වට්ටම්		4 000
දුන් වට්ටම්	2 500	
බැංකු ණය පොලී	4 000	
බොල් ණය	1 000	
විදුලි ගාස්තු	1 500	
වරිපණම්	2 000	
පරිපාලන වියදම්	6 000	
මුදල් ශේෂය	30 000	
	<u>544 000</u>	<u>544 000</u>

- අමතර තොරතුරු:
- * 2016.12.31 දිනට තොගය රු. 28 000 කි.
 - * බෙදාහැරීමේ රථ පිරිවැය මත සරල මාර්ග ක්‍රමයට වාර්ෂිකව 10% බැගින් ක්ෂය කෙරේ.
 - * 2016.12.31 දිනට ඉදිරියට ගෙවූ රක්ෂණ ගාස්තු රු. 2 000 කි.

අවශ්‍ය වන්නේ:
 (අ) 2016.12.31 දිනෙන් අවසන් වර්ෂය සඳහා ලාභ හෝ අලාභ ප්‍රකාශය (ලකුණු 04 යි)
 (ආ) 2016.12.31 දිනට මූල්‍ය තත්ත්ව ප්‍රකාශය (ලකුණු 04 යි)
 (මුළු ලකුණු 12 යි)

