



නව නිර්දේශය/புதிய LAL த்திட்டம் / New Syllabus






අධ්‍යයන පොදු සහතික පත්‍ර (සාමාන්‍ය පෙළ) විභාගය, 2017 දෙසැම්බර්
 கல்விப் பொதுத் தராதரப் பத்திர (சாதாரண தர)ப் பரீட்சை, 2017 டிசெம்பர்
General Certificate of Education (Ord. Level) Examination, December 2017

විද්‍යාව I
 விஞ்ஞானம் I
 Science I

පැය එකයි
 ஒரு மணித்தியாலம்
 One hour

- උපදෙස්:**
- * සියලු ම ප්‍රශ්නවලට පිළිතුරු සපයන්න.
 - * අංක 1 සිට 40 තෙක් ප්‍රශ්නවල, පිළිතුරු සඳහා (1), (2), (3), (4) ලෙස වරණ හතර බැගින් දී ඇත. එක් එක් ප්‍රශ්නය සඳහා නිවැරදි හෝ වඩාත් ගැළපෙන හෝ පිළිතුරට අදාළ වරණය තෝරා ගන්න.
 - * ඔබට සැපයෙන පිළිතුරු පහයේ එක් එක් ප්‍රශ්නය සඳහා ඔබ තෝරා ගත් වරණයෙහි අංකයට සැලකෙන කඩය තුළ (X) ලකුණ ගෙදන්න.
 - * එම පිළිතුරු පත්‍රයේ පිටුපස දී ඇති අනෙක් උපදෙස් ද සැලකිල්ලෙන් කියවා, ඒවා ද පිළිපදින්න.

- පහත දැක්වෙන කුමන ශාකය විවෘතබීජක ශාකයක් වේ ද?
 (1) පොල් (2) වී (3) කෘෂ්ණ (4) පයින්ස්
- බල ඝූර්ණයේ ඒකකය කුමක් ද?
 (1) $J s^{-1}$ (2) $kg m s^{-2}$ (3) $N m$ (4) $N m^{-2}$
- මිනිසාගේ නසිටුප්තිය බහිස්ප්‍රාචය සඳහා ප්‍රධාන වශයෙන් දායක වන ඉන්ද්‍රියය වන්නේ
 (1) සමය. (2) වෘක්කයය. (3) නාසයය. (4) පෙනහැලිය.
- පහත කුමන ද්‍රව්‍යය ජලය සමග මිශ්‍ර කළ විට විෂමජාතීය මිශ්‍රණයක් ලැබේ ද?
 (1) කොපර් සල්ෆේට් (2) එතිල් මධ්‍යසාර (3) සීනි (4) තිරිඟු පිටි
- ස්වායු ශ්වසනයේ දී ශක්තිය නිදහස් කෙරෙන්නේ පහත සඳහන් කුමන ඉන්ද්‍රියකොට් මගින් ද?
 (1) නාසටිය (2) මයිටොකොන්ඩ්‍රියම් (3) රයිබොසෝම (4) ගොල්ගි සංකීර්ණය
- පහත සඳහන් ඔක්සයිඩ් අතුරෙන් කුමන ඔක්සයිඩය භාස්මික වේ ද?
 (1) MgO (2) Al_2O_3 (3) SO_2 (4) SiO_2
- රූපයේ දී ඇති සත්ත්ව පටකය
 (1) පේශි පටකයකි. (2) ස්නායු පටකයකි. 
 (3) අපිච්ඡද පටකයකි. (4) සම්බන්ධක පටකයකි.
- බයිසිකල් ඩයිනමෝවක් තුළ සිදු වන්නේ පහත දැක්වෙන කුමන ශක්ති පරිවර්තනය ද?
 (1) විද්‍යුත් ශක්තිය → යාන්ත්‍රික ශක්තිය (2) තාප ශක්තිය → විද්‍යුත් ශක්තිය
 (3) යාන්ත්‍රික ශක්තිය → විද්‍යුත් ශක්තිය (4) විද්‍යුත් ශක්තිය → ආලෝක ශක්තිය
- ජීවින් තුළ සිදු වන ජෛව රසායනික ප්‍රතික්‍රියා උත්ප්‍රේරණය කරනු ලබන්නේ
 (1) හෝර්මෝන මගිනි. (2) එන්සයිම මගිනි. (3) මේද අම්ල මගිනි. (4) ජලය මගිනි.
- බල යුග්මයක් ක්‍රියා කරන්නේ පහත සඳහන් කුමන අවස්ථාවේ දී ද?
 (1) තල්ලු කිරීමෙන් දොරක් ඇරීමේ දී
 (2) ඉස්කුරුප්පු නියතක් මගින් ඇණයක් ගැලවීමේ දී
 (3) කම් ඇදීමේ තරඟයක දී කණ්ඩායම් දෙකක් විසින් කම්‍ය ප්‍රතිවිරුද්ධ දිශාවලට ඇදීමේ දී
 (4) සුද්ගලයන් දෙදෙනකු විසින් බිම තබා ඇති පෙට්ටියක් එක ම දිශාවට තල්ලු කිරීමේ දී
- Al^{3+} අයනයේ ඇති ඉලෙක්ට්‍රෝන ගණන හා ප්‍රෝටෝන ගණන පිළිවෙළින් (Al හි පරමාණුක ක්‍රමාංකය 13 වේ.)
 (1) 10, 13 වේ. (2) 10, 27 වේ. (3) 13, 13 වේ. (4) 13, 27 වේ.



12. ට්‍රිවීයම සමස්ථානිකයේ සම්මත අංකනය කුමක් ද?

- (1) ^1_1H (2) ^2_1H (3) ^3_1H (4) ^3_3H

13. සුළඟ මගින් වායුමය වීම සඳහා හොර යාකයේ බීජ පහත සඳහන් කුමන අනුවර්තනය දක්වයි ද?

- (1) තවු වැනි ව්‍යුහ දැරීම (2) රෝම සහිත වීම
(3) වාතය පිරි බීජ කවච දැරීම (4) විවිධ රටාවලින් යුක්ත වීම

14. එක්තරා සහසංයුජ සංයෝගයක් ජලය තුළ දී පූර්ණ ලෙස අයනීකරණයට ලක් වේ. මෙම සංයෝගය පහත කුමක් විය හැකි ද?

- (1) NH_4OH (2) HCl (3) CuSO_4 (4) H_2CO_3

15. මිනිස් සිරුර තුළ ග්ලූකොසාන් හා කැල්සිටොනින් ප්‍රාචය කරන අන්තරාසර්ග ග්‍රන්ථි පිළිවෙළින්

- (1) අභ්‍යන්තර හා තයි‍රොයිඩය වේ. (2) අධිවෘක්කය හා තයි‍රොයිඩය වේ.
(3) පිටිපුටුරිය හා අධිවෘක්කය වේ. (4) තයි‍රොයිඩය හා අභ්‍යන්තරය වේ.

16. පොටෑසියම්, කැල්සියම් හා ලෙඩ් යන එක් එක් ලෝහය නිස්සාරණය කිරීම සඳහා යොදා ගැනීමට වඩාත් ම සුදුසු ක්‍රමය දැක්වෙන වරණය වගුවෙන් තෝරන්න.

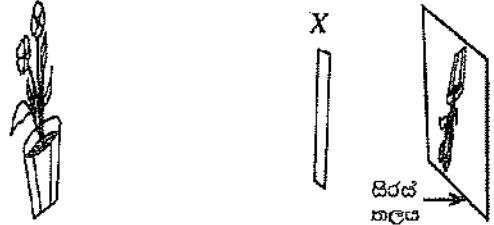
	පොටෑසියම්	කැල්සියම්	ලෙඩ්
(1)	විද්‍යුත්-විච්ඡේදනය	ඔක්සිහරණය	භෞතික ක්‍රමය
(2)	විද්‍යුත්-විච්ඡේදනය	ඔක්සිහරණය	ඔක්සිහරණය
(3)	ඔක්සිහරණය	විද්‍යුත්-විච්ඡේදනය	භෞතික ක්‍රමය
(4)	විද්‍යුත්-විච්ඡේදනය	විද්‍යුත්-විච්ඡේදනය	ඔක්සිහරණය

17. තිරස් බිමක් මත A ලක්ෂ්‍යයට නැගෙනහිරින් B ලක්ෂ්‍යය ද B ලක්ෂ්‍යයට උතුරින් C ලක්ෂ්‍යය ද පිහිටයි. කුඹියෙන් AB හා BC සරල රේඛීය මාර්ග ඔස්සේ A සිට C ට ගමන් කළේ ය. $AB = 3\text{ m}$ හා $BC = 4\text{ m}$ නම්, මෙම ගමනේ දී කුඹියාගේ සිදු වූ විස්ථාපනය

- (1) 4 m වේ. (2) 5 m වේ. (3) 7 m වේ. (4) 25 m වේ.

18. X නම් උපාංගයක් භාවිතයෙන් මල් පෝච්චියක ප්‍රතිබිම්බයක් සුදු පැහැති සිරස් තලයක් මතට ලබා ගත් අවස්ථාවක් රූපයේ දැක්වේ. X විය හැක්කේ පහත කවරක් ද?

- (1) තල දර්පණයක්
(2) උත්තල දර්පණයක්
(3) අවතල කාචයක්
(4) උත්තල කාචයක්



19. තරංග සම්බන්ධයෙන් පහත දී ඇති කුමන ප්‍රකාශය සත්‍ය වේ ද?

- (1) සම්පීඩන හා විරලන සහිත ව කීර්යක් තරංග ප්‍රචාරණය වේ.
(2) කීර්යක් තරංගයක ශීර්ෂයක් හා නිම්නයක් අතර දුර එම තරංගයේ තරංග ආයාමයට සමාන වේ.
(3) යාන්ත්‍රික තරංග ප්‍රචාරණය සඳහා මාධ්‍යයක් තිබීම අත්‍යවශ්‍ය නො වේ.
(4) පදාර්ථ සම්ප්‍රේෂණයකින් තොර ව යාන්ත්‍රික තරංග මගින් ශක්තිය සම්ප්‍රේෂණය කෙරේ.

20. මුහුදු ජලයෙන් ලුණු නිෂ්පාදනය කිරීමේ ක්‍රියාවලියේ දී පළමුවන හා තුන්වන තට්ටුවල දී අවක්ෂේප වන ලවණ පිළිවෙළින්.


- (1) CaCO_3 හා NaCl වේ. (2) CaSO_4 හා MgSO_4 වේ.
(3) MgSO_4 හා NaCl වේ. (4) CaCO_3 හා CaSO_4 වේ.

21. පහත දී ඇති ආහාර දාම අනුරේඛන වඩාත් ම කාර්යක්ෂම ආහාර දාමය තෝරන්න.

- (1) තණකොළ → මුවා → කොටියා
(2) කැට්ටි → හාවා → පිඹුරා → උකුස්සා
(3) තණකොළ → තණකොළ පෙත්තා → මීයා → නයා → උකුස්සා
(4) වී → මීයා → කැදැත්තා → උකුස්සා

22. ග්ලූකෝස් ද්‍රාවණයක සංයුතිය, ස්කන්ධය හා පරිමාව ඇසුරෙන් 90 g dm^{-3} වේ. එම ග්ලූකෝස් ද්‍රාවණයේ සාන්ද්‍රණය කොපමණ ද? (ග්ලූකෝස්වල සාපේක්ෂ අණුක ස්කන්ධය 180 වේ.)

- (1) 0.25 mol dm^{-3} (2) 0.50 mol dm^{-3} (3) 0.75 mol dm^{-3} (4) 2.00 mol dm^{-3}



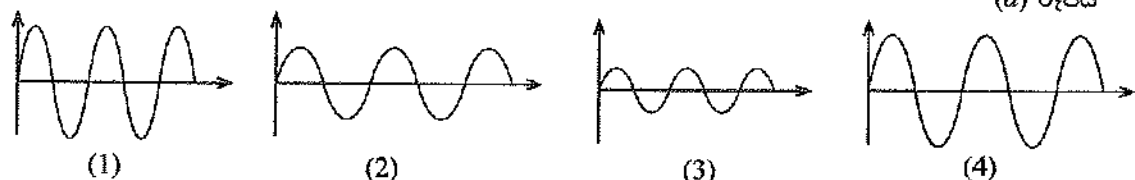
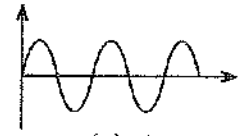
23. න්‍යෂ්ටික අම්ලවල කාර්යයක් නොවන්නේ පහත කවරක් ද?
 (1) ස්විත්තේ ප්‍රවේණික තොරතුරු ගබඩා කිරීම (2) ප්‍රෝටීන සංශ්ලේෂණයට දායක වීම
 (3) සෛලයේ සිදු වන ක්‍රියාවලි පාලනය කිරීම (4) දේහ උෂ්ණත්වය පවත්වාගෙන යෑම
24. උෂ්ණත්වය 1000 °C - 1900 °C පරාසය තුළ දී කාබන් මොනොක්සයිඩ් වායුව සමග හිමටයිට් (Fe_2O_3) ප්‍රතික්‍රියා කළ විට ලැබෙන අවසාන ඵල
 (1) Fe හා CO_2 වේ. (2) FeO හා CO_2 වේ. (3) Fe හා O_2 වේ. (4) FeO හා $FeCO_3$ වේ.
25. මිනිසාගේ ක්ෂුද්‍රාන්ත්‍රයේ පිහිටි අංගුලිකාවල ඇති රුධිර කේශනාලිකා මගින් අවශෝෂණය කර නොගන්නේ පහත සඳහන් කුමන ජීරණ අන්තඵලය ද?
 (1) ඇමයිනෝ අම්ල (2) ශ්ලීසරෝල් (3) ගැලැක්ටෝස් (4) පාක්ටෝස්
26. මිනිස් මොළයේ අනුමස්තිෂ්කයේ කාර්යයක් වන්නේ පහත කවරක් ද?
 (1) දේහ සමතුලිතතාව පවත්වා ගැනීම (2) උසස් මානසික ක්‍රියා ඇති කිරීම
 (3) දෘෂ්ටි සංවේදන ප්‍රතිග්‍රහණය කිරීම (4) ශ්වසනය පාලනය කිරීම
27. ස්කන්ධය 1.3 kg වන භංසයකු පොකුණක නිශ්චල ජලය මත සිටින අවස්ථාවක් රූපයේ දැක්වේ. භංසයා මත ජලය මගින් ඇති කරන උඩුකුරු තෙරපුම කොපමණ ද? (ගුරුත්වජ ත්වරණයෙහි අගය 10 m s^{-2} ලෙස ගන්න.)
 (1) 1.3 N (2) 8.7 N
 (3) 10.0 N (4) 13.0 N
-
28. පහත සඳහන් රසායනික ප්‍රතික්‍රියාව සලකන්න.
 $ZnSO_4 + X \longrightarrow XSO_4 + Zn$
 X මූලද්‍රව්‍යය පහත කවරක් විය හැකි ද?
 (1) Fe (2) Al (3) Mg (4) Cu
29. මෙස පුණු ස්වල්පයක් මිශ්‍ර වීමෙන් අපවිත්‍ර වූ සීනි සාම්පලයක් ජලයේ දිය කර උෂ්ණත්වය 80 °C හි පවතින සත්කාප්ත සීනි ද්‍රාවණයක් සාදා ඇත. ඒ මගින් සංඥද්ධ සීනි ස්ඵටික ලබා ගැනීමට පහත කුමන ක්‍රියාව අනුගමනය කළ හැකි ද?
 (1) ද්‍රාවණයේ උෂ්ණත්වය ඉහළ නැංවීම (2) ද්‍රාවණය සිසිල් කිරීම
 (3) ද්‍රාවණය තනුක කිරීම (4) ද්‍රාවණය පෙරීම
30. පහත දී ඇති A, B හා C අවස්ථා සලකන්න.
 A - වඩුලකු රාත්‍රී කාලයේ 21 000 Hz අතිධ්වනි තරංග නිකුත් කරමින් පියාසර කිරීම
 B - ඩොල්ෆිනයකු සාගරය තුළ 21 000 Hz අතිධ්වනි තරංග නිකුත් කරමින් ගොදුරු සෙවීම
 C - භාවකු 21 000 Hz අතිධ්වනි තරංග නිකුත් කරමින් කැලෑවේ ගමන් කිරීම
 ඉහත අවස්ථාවල නිකුත් වන ධ්වනි තරංගවල වේග පිළිවෙළින් V_A , V_B හා V_C නම්, පහත කුමන සම්බන්ධතාව නිවැරදි ද?
 (1) $V_A < V_B < V_C$ (2) $V_B < V_C < V_A$ (3) $V_A = V_C < V_B$ (4) $V_A = V_B = V_C$
31. සෝඩියම් ක්ලෝරයිඩ්, පොටෑසියම් ෆෙරිසයනයිඩ් හා පිනෝල්තැලින් යන ද්‍රව්‍ය සුළු ප්‍රමාණවලින් මිශ්‍ර කර ඇති ඒශාර් මාධ්‍යයක් තුළ, M නම් ලෝහයක් සමග සම්බන්ධ කළ යකඩ ඇණයක් තබා ඇත. පැයකට පසුව ඇණය වටා ඒශාර් මාධ්‍යයේ රෝස පැහැයක් පමණක් දක්නට ලැබුණි. M විය හැකි වන්නේ
 (1) කොපර් ය. (2) ලෙඩ් ය. (3) ටින් ය. (4) ඇලුමිනියම් ය.
32. පහත සඳහන් ලක්ෂණ සලකන්න.
 A - න්‍යෂ්ටිය සෛල ජලාස්මයේ පර්යන්තව පිහිටයි.
 B - විශාල මධ්‍ය වික්ෂකයක් සහිත ගෝලාකාර සෛල පිහිටයි.
 C - අන්තර් සෛලීය අවකාශ නොපිහිටයි.
 ඉහත ලක්ෂණ අතුරෙන් මෘදුස්තර පටකයේ ලක්ෂණ වන්නේ
 (1) A හා B පමණි. (2) B හා C පමණි. (3) A හා C පමණි. (4) A, B හා C සියල්ල ම ය.
33. වස්තුවක් නිව්ටන 10, 15 හා P යන ඒකක බල තුනක් යටතේ සමතුලිතව තිබේ. 10 N හා 15 N යන බල දෙකෙහි සම්ප්‍රයුක්තය 12 N වේ. P බලය සම්බන්ධයෙන් පහත දී ඇති (X), (Y) හා (Z) ප්‍රකාශ සලකන්න.
 (X) - P හි විශාලත්වය 12 N වේ.
 (Y) - 10 N හා 15 N යන බල දෙකෙහි සම්ප්‍රයුක්ත බලයේ දිශාවට P ක්‍රියා කරයි.
 (Z) - P හි ක්‍රියා රේඛාව, 10 N හා 15 N යන බල දෙකෙහි ක්‍රියා රේඛාවල ඡේදන ලක්ෂ්‍යය තරහා ගමන් කරයි.
 ඉහත ප්‍රකාශවලින් සත්‍ය වන්නේ
 (1) (X) හා (Y) පමණි. (2) (Y) හා (Z) පමණි. (3) (X) හා (Z) පමණි. (4) (X), (Y) හා (Z) සියල්ල ම ය.

34. එක්තරා ජීවියකුට පහත සඳහන් ලක්ෂණ ඇත.
 A - සංවිධානය වූ න්‍යෂ්ටියක් දරන සෛලවලින් යුක්ත වීම
 B - කාබනික ද්‍රව්‍ය විශේෂනය කිරීමේ හැකියාව තිබීම
 C - සෛල බිත්තියේ කයිටින් තිබීම

ඉහත සඳහන් ජීවියා කුමන රාජධානියට අයත් වේ ද?

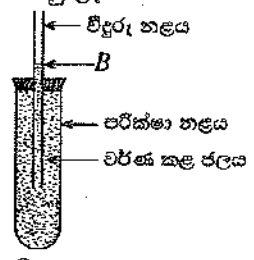
- (1) ප්‍රොටිස්ටා (2) ෆන්ගයි (3) ජලාන්තව (4) ඇනිමාලියා

35. බෙරයකට සෙමෙන් තට්ටු කළ විට ලැබුණු ධ්වනි තරංගය කැනෝඩ කිරණ දෝලනේක්ෂයෙන් නිරීක්ෂණය කළ විට (a) රූපයේ ඇති තරංග රටාව ලැබුණි.
 ඉහත අවස්ථාවේ දී යෙදූ බලයට වඩා වැඩි බලයක් යොදා බෙරයට තට්ටු කළ විට ලැබෙන තරංගයේ තරංග රටාව පහත කුමක් විය හැකි ද?



36. ස්කන්ධය 40 kg වන ළමයෙක් ගොඩනැගිල්ලක පළමුවන මහලේ සිට 9 m උසින් පිහිටි තුන්වන මහල දක්වා පඩිපෙළක් දිගේ ගමන් කළේ ය. මෙම සම්පූර්ණ ගමන සඳහා ඔහුට ගත වූ කාලය මිනිත්තු 2 කි. ඔහුගේ කාර්ය කිරීමේ ශීඝ්‍රතාව කොපමණ ද? (ගුරුත්වජ ත්වරණය 10 m s^{-2} ලෙස ගන්න.)
- (1) 30 W (2) 400 W (3) 1 800 W (4) 3 600 W

37. රූපයේ දී ඇති විදුරු නළය සහිත පරීක්ෂා නළය ජලය සහිත බදුනක ගිල්වා ටික වේලාවක් රත් කරනු ලැබේ. මෙම පරීක්ෂණයේ දී ලැබෙන නිරීක්ෂණ පිළිබඳ ප්‍රකාශ තුනක් පහත දැක්වේ.
 X - විදුරු නළයේ ජල මට්ටම B සිට ක්‍රමයෙන් ඉහළ ගොස් නවතී.
 Y - විදුරු නළයේ ජල මට්ටම B සිට ක්‍රමයෙන් පහළ ගොස් නවතී.
 Z - විදුරු නළයේ ජල මට්ටම B සිට පහළ ගොස් ඉන්පසු එතැන් සිට ඉහළ ගොස් B මට්ටම පසු කර යයි.



- ඉහත ප්‍රකාශවලින්
 (1) X සත්‍ය වේ. (2) Y සත්‍ය වේ.
 (3) Z සත්‍ය වේ. (4) X, Y හා Z සියල්ල ම අසත්‍ය වේ.

38. සරල රේඛීය මාර්ගයක් ඔස්සේ ගමන් කළ වස්තුවක චලිතයට අදාළ තොරතුරු පහත දී ඇත.

කාලය / s	0	1	2	3	4	5	6
වස්ථාපතය / m	0	4	8	10	14	16	18

- ඉහත තොරතුරුවලට අනුව, පහත දී ඇති කුමන ප්‍රකාශය සත්‍ය වේ ද?
 (1) වස්තුව සම්පූර්ණ කාලය තුළ ඒකාකාර ප්‍රවේගයකින් ගමන් කර ඇත.
 (2) සම්පූර්ණ චලිතය තුළ වස්තුවේ මධ්‍යක ප්‍රවේගය 3 m s^{-1} වේ.
 (3) වස්තුව නැවත ආරම්භක ස්ථානයට පැමිණ ඇත.
 (4) වස්තුව ගමන් කළ මුළු දුර 70 m වේ.


39. I ධාරාවක් රැගෙන යන AB සෘජු සන්නායකයක් චුම්බක ක්ෂේත්‍රයක තබා ඇත. චුම්බක ක්ෂේත්‍රයේ දිශාව, සන්නායකය හරහා ධාරාව ගමන් කරන දිශාවට ලම්බ වේ.
 පහත සඳහන් X හා Y අවස්ථා දෙකේ දී වෙන වෙන ම සිදු කර ඇති වෙනස්කම් සලකන්න.

X අවස්ථාව - චුම්බක ක්ෂේත්‍රය වෙනස් නොකර AB හරහා ධාරාව 2I දක්වා වැඩි කිරීම
 Y අවස්ථාව - AB හරහා ධාරාව I ලෙස තබා ගෙන චුම්බක ක්ෂේත්‍රයේ ප්‍රබලතාව අඩු කිරීම

- මෙම අවස්ථා දෙකේ දී AB මත ක්‍රියා කරන චුම්බක බල පිළිබඳ ව පහත කුමන ප්‍රකාශය නිවැරදි ද?
 (1) X අවස්ථාවේ දී පමණක් චුම්බක බලය වැඩි වේ. (2) Y අවස්ථාවේ දී පමණක් චුම්බක බලය වැඩි වේ.
 (3) X හා Y අවස්ථා දෙකේ දී ම චුම්බක බලය වැඩි වේ. (4) X හා Y අවස්ථා දෙකේ දී ම චුම්බක බලය අඩු වේ.

40. පහත දී ඇති කාර්ය සලකන්න.
 A - ආහාර සැතපුම අවම කිරීම
 B - ශක්තිය කළමනාකරණය කිරීම
 C - පාරම්පරික දැනුම සහ තාක්ෂණය භාවිත කිරීම

ශ්‍රී ලංකාවේ නිරසාර සංවර්ධනය උදෙසා වැදගත් වන කාර්ය වන්නේ,
 (1) A හා B පමණි. (2) B හා C පමණි. (3) A හා C පමණි. (4) A, B හා C යන සියල්ල මය.



නව නිර්දේශ/புதிய பாடத்திட்டம்/New Syllabus

NEW **34 S II**

අධ්‍යයන පොදු සහතික පත්‍ර (සාමාන්‍ය පෙළ) විභාගය, 2017 දෙසැම්බර්
 கல்விப் பொதுத் தராதரப் பத்திர (சாதாரண தர)ப் பரீட்சை, 2017 டிசெம்பர்
General Certificate of Education (Ord. Level) Examination, December 2017

විද්‍යාව II
 விஞ்ஞானம் II
 Science II

පැය තුනයි
 மூன்று மணித்தியாலம்
Three hours

විභාග අංකය :

- ලපදෙස් :**
- * පැහැදිලි අත් අකුරින් පිළිතුරු ලියන්න.
 - * A කොටසේ ප්‍රශ්න හතරට දී ඇති ඉඩ ප්‍රමාණය තුළ පිළිතුරු සපයන්න.
 - * B කොටසේ ප්‍රශ්න පහෙන් ප්‍රශ්න තුනකට පමණක් පිළිතුරු සපයන්න.
 - * පිළිතුරු හපහා අවසානයේ A කොටස හා B කොටසේ පිළිතුරු පත්‍රය එකට අමුණා බාරදෙන්න.

A කොටස

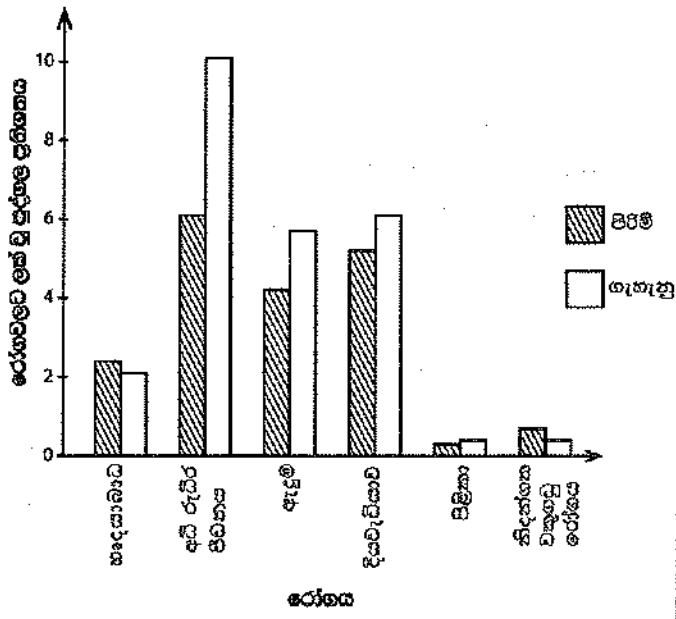
1. මෑතක දී ශ්‍රී ලංකාව තුළ සිදු කෙරුණු සංගණනයක් මගින්, රෝගාබාධවලට ලක් වූ පුද්ගලයන් පිළිබඳ ව ලබා ගත් දත්ත ඇසුරෙන් රෝග කිහිපයක් සලකා පහත ප්‍රශ්නාරය ඇඳ ඇත.

- (i) ප්‍රශ්නාරයේ දැක්වෙන රෝග සියල්ල ම පොදුවේ කුමන රෝග වර්ගයට අයත් වේ ද?

- (ii) ප්‍රශ්නාරයේ දැක්වෙන රෝග අතුරෙන් වැඩි ම පුද්ගලයන් සංඛ්‍යාවක් පෙළෙකුගේ කුමන රෝගයෙන් ද?

- (iii) ප්‍රශ්නාරයට අනුව ගැහැනුන්ට සාපේක්ෂ ව පිරිමින්ට වැළඳීමේ වැඩි අවදානමක් ඇත්තේ කුමන රෝග ද?

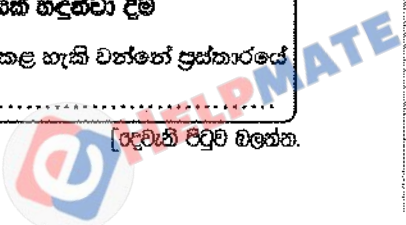
- (iv) (a) දිගුකල් පවත්නා කාබනික දූෂක සේතුවෙන් මිනිසුන්ට වැළඳීමට වැඩි ප්‍රවණතාවක් ඇති රෝගයක් ප්‍රශ්නාරයේ සඳහන් රෝග අතුරෙන් නම් කරන්න.



- (b) දිගුකල් පවත්නා කාබනික දූෂක සතු විශේෂ ලක්ෂණ දෙකක් ලියන්න.

- (v) නිදන්ගත වකුගඩු රෝගය ඇති වීමට හේතු වේ යැයි සැලකෙන කෘෂිකර්මාන්තය හා සම්බන්ධ කරුණක් සඳහන් කරන්න.

- (vi) ජනතාව සමහර රෝගවලට ලක් වීම පාලනය කිරීම සඳහා වන්නේ ශ්‍රී ලංකාව තුළ ගෙන ඇති එක් පියවරක් පහත දැක්වේ.
 පැණි බීම හඳුනා ඒවායේ අඩංගු සීනි ප්‍රමාණය දැක්වෙන විර්ණ සංකේත ස්‍රමයක් හඳුන්වා දීම
 ලක්ක පියවර මගින් ඉදිරි වසර කිහිපය තුළ දී බොහෝ දුරට පාලනය වේ යැයි අපේක්ෂා කළ හැකි වන්නේ ප්‍රශ්නාරයේ දැක්වෙන කුමන රෝගය ද?



(vii) පිළිකා ඇති වීම සඳහා හේතු විය හැකි අයහපත් ජීවන වර්ග දෙකක් ලියන්න.

.....

(viii) පරිසරය පවිත්‍රව තබා ගැනීමෙන් බොහෝ රෝග වැළඳීම වළක්වා ගත හැකි ය. පරිසර දූෂණය සඳහා හේතු විය හැකි පාසල් පරිසරයේ දී හමු වන ද්‍රව්‍ය කිහිපයක් පහත දී ඇත.

කැටුණු පරික්ෂා නළ, ජලාස්වික් බෝතල්, බැටරි, පෑන් බට, ප්‍රතිදීපන පහන්, ලිප්‍රම් කවර, පෙරහන් කඩදාසි

අපද්‍රව්‍ය කළමනාකරණය පහසු වන පරිදි ඉහත සඳහන් ද්‍රව්‍ය බැහැර කිරීම සඳහා ඒවා සුදුසු නිර්ණායක පදනම් කරගෙන කාණ්ඩ හතරකට වර්ගීකරණය කරන්න.

.....

2. (A) ව්‍යුහමය ලක්ෂණ සලකා, පෘෂ්ඨවංශීන් කාණ්ඩ පහකට වෙන් කරනු ලැබේ. ඒ ඇසුරෙන් සකස් කළ පහත වගුව සලකන්න.

පෘෂ්ඨවංශී කාණ්ඩය	පියකේස්	A	B	ආවේස්	C
උදාහරණ	මුහුදු අශ්වයා මඩුවා	ගෙම්බා සලමන්දරා	ඉබ්බා නයා	වළිකුකුළා ගිරවා	වවුලා තල්මසා

- (i) A, B පහ C යන පෘෂ්ඨවංශී කාණ්ඩ නම් කරන්න.
 A: B: C:
- (ii) වගුවේ සඳහන් වන වලභාපී සතුන් දෙදෙනකු නම් කරන්න.

- (iii) මිනිසුන් අයත් වන්නේ වගුවේ සඳහන් කුමන පෘෂ්ඨවංශී කාණ්ඩයට ද?
- (iv) පියාසර කිරීම සඳහා ආවේස් කාණ්ඩයට අයත් පෘෂ්ඨවංශීන් සතු විශේෂ ලක්ෂණ දෙකක් සඳහන් කරන්න.

(B) ප්‍රභාසංශ්ලේෂණයේ දී ඔක්සිජන් වායුව නිපදවෙන බව පරීක්ෂණාත්මකව පෙන්වීමට ඔබට පවරා ඇත.


(i) පරීක්ෂණයට අදාළ ඇටවුම් සඳහා පහත සඳහන් උපකරණ හා ද්‍රව්‍ය ඔබට සපයනු ලැබේ. ඒවා භාවිත කර ඔබ විසින් සකස් කරනු ලබන ඇටවුමෙහි දළ සටහනක් අඳින්න.

බිකරයක්, කැකැරුම් නළයක්, වීදුරු පුනීලයක්, හයිඩ්‍රිල්ලා ශාකයක්, ජලය

- (ii) සකස් කළ ඇටවුම හිරුඵලියට නිරාවරණය වන පරිදි තැබූ විට ලැබෙන නිරීක්ෂණයක් ලියන්න.

- (iii) මෙම පරීක්ෂණයේ දී නිපදවූණු වායුව ඔක්සිජන් බව ඔබ තහවුරු කරන්නේ කෙසේ ද?

- (iv) ප්‍රභාසංශ්ලේෂණ ක්‍රියාවලිය තුලින් රසායනික සමීකරණයකින් ලියා දක්වන්න.



3. (A) ආවර්තිතා වගුවේ දෙවන ආවර්තයට අයත් මූලද්‍රව්‍ය සියල්ල ම අනුපිළිවෙළින් තොරව පහත දී ඇත.

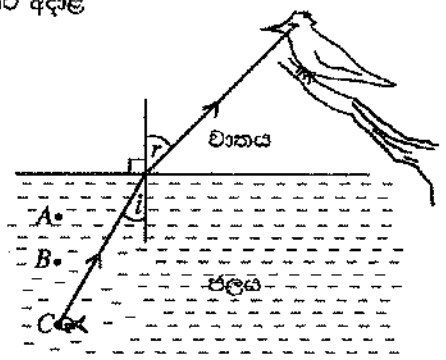
B	Li	C	Be	Ne	F	O	N
---	----	---	----	----	---	---	---

- (i) ඉහත සඳහන් මූලද්‍රව්‍ය සියල්ල ම ආවර්තිතා වගුවේ පිහිටන ආකාරයට පෙළගස්වන්න.
.....
- (ii) F හි ඉලෙක්ට්‍රෝන වින්‍යාසය ලියන්න. :
- (iii) (a) Li හා O අතර ප්‍රතික්‍රියාවේ දී සෑදෙන සංයෝගයේ රසායනික සූත්‍රය ලියන්න.
- (b) ඉහත (a) හි සඳහන් සංයෝගයේ පවතින රසායනික බන්ධන වර්ගය කුමක් ද?
.....
- (iv) C පරමාණුවක් හා O පරමාණු දෙකක් සංයෝජනය වී සෑදෙන CO_2 අණුවේ ඉවිත් වූ ශක්තිය දී ඇති කොටුව තුළ අදින්න.
- (v) මිනිරන් හා දියමන්ති යනු C හි ප්‍රධාන බහුරූපී ආකාර වේ. මෙම බහුරූපී ආකාරවලින් විද්‍යුතය සන්නයනය කරන්නේ කුමන ආකාරය ද?
- (vi) මෙම ආවර්තයේ ඇති මූලද්‍රව්‍යවලින් පළමු අයනීකරණ ශක්තිය අඩු ම මූලද්‍රව්‍යයත්, විද්‍යුත් සෘණතාව වැඩි ම මූලද්‍රව්‍යයත් පිළිවෙළින් ලියන්න.

- (B) විද්‍යාගාරයේ දී ඔක්සිජන් වායු නියැදියක් නිපදවා ගැනීමේ පරීක්ෂණයකට අදාළ ව පහත ප්‍රශ්න පදනම් වේ.
- (i) පහත දී ඇති සංයෝග අතුරෙන් ඔක්සිජන් වායුව නිපදවා ගැනීමට භාවිත කළ හැකි වන්නේ කුමන සංයෝගය ද?
 $CaCO_3, KMnO_4, MgSO_4$:
 - (ii) ඔබ ඉහත සඳහන් කළ සංයෝගය පමණක් භාවිත කර ඔක්සිජන් වායුව නිපදවා ගැනීමේ දී සිදු වන්නේ කුමන වර්ගයේ රසායනික ප්‍රතික්‍රියාවක් ද?
 - (iii) පරීක්ෂණය සිදු කිරීමේ දී අදාළ සංයෝගය බහාලීම සඳහා භාවිත කළ යුතු උපකරණය කුමක් ද?
.....
 - (iv) මෙම පරීක්ෂණයේ දී නිපදවෙන ඔක්සිජන් වායුව එක්රැස් කර ගැනීම සඳහා විද්‍යාගාරයේ දී භාවිත කරන ක්‍රමය කුමන නමකින් හැඳින්වේ ද?

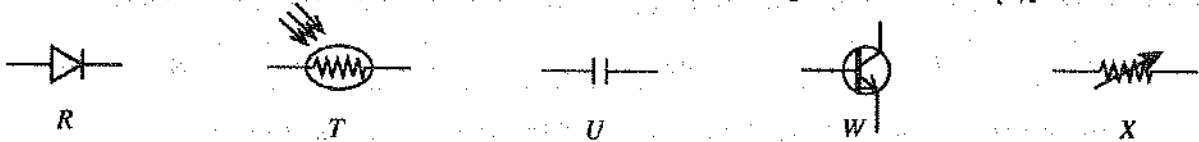
4. (A) පිළිහුඩුවකට පොකුණක් තුළ සිටින මාළුවකු නිරීක්ෂණය වන අවස්ථාවකට අදාළ කිරණ සටහනක් රූපයේ දී ඇත.

- (i) කිරණ සටහනේ දැක්වෙන i සහ r කෝණ නම් කරන්න.
 i -
 r -



- (ii) රූපයේ දැක්වෙන මාධ්‍ය දෙක සැලකිල්ලට ගනිමින්, $\frac{\text{සයින් } i}{\text{සයින් } r}$ මගින් දෙනු ලබන නියතය කුමක් දැයි සඳහන් කරන්න.
.....
- (iii) මාළුවා සිටින්නේ යැයි පිළිහුඩුවාට දර්ශනය වන්නේ A, B හා C ස්ථාන තුනෙන් කුමන ස්ථානයේ ද?
.....

(B) පරිපථවල භාවිත වන උපාංග කිහිපයක සම්මත සංකේත R, T, U, W හා X ලෙස නම් කර පහත දී ඇත.



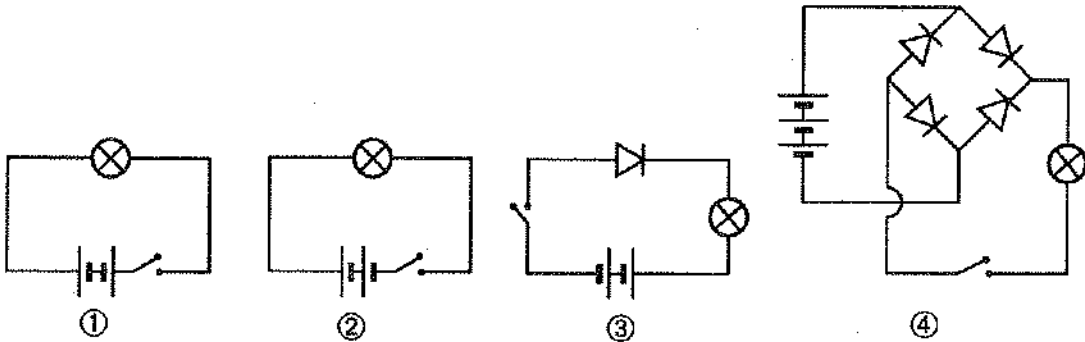
(i) T, W හා X වලට අදාළ උපාංග නම් කරන්න.

T :

W :

X :

(ii) විද්‍යාගාරයේ දී නිර්මාණය කරන ලද පරිපථ හතරක් සම්මත සංකේත සහිත ව පහත ①, ②, ③ හා ④ මගින් දී ඇත. එම පරිපථ සඳහා 1.5 V වන කෝෂ, 2.5 V වන බල්බ, සර්වසම වයෝධ හා ස්විච්ච භාවිත කර ඇත.



(a) පරිපථවල ස්විච්ච සංවෘත කළ විට බල්බ දැල්වේ ද නොදැල්වේ ද යන්න පහත වගුවේ සඳහන් කරන්න.

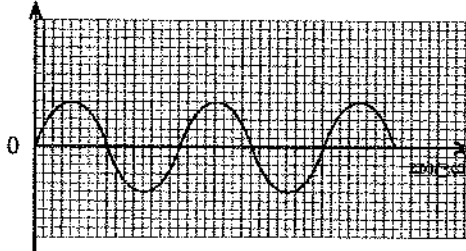
පරිපථය	බල්බය දැල්වේ/බල්බය නොදැල්වේ
①	
②	
③	
④	

(b) ඉහත (a) ට අනුව, ① හා ② හි ඔබේ නිරීක්ෂණ මගින් එළඹිය හැකි නිගමනය, විභව අන්තරය සම්බන්ධ කරමින් ලියා දක්වන්න.

.....

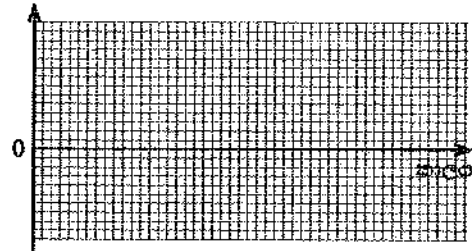
(c) ඉහත ④ පරිපථයේ ඇති බැටරිය ඉවත් කර ඒ වෙනුවට සුදුසු අගයක් සහිත ප්‍රත්‍යාවර්තක විභවයක් සම්බන්ධ කර ස්විච්චය සංවෘත කරනු ලැබේ. මෙම පරිපථයට අදාළ ප්‍රදානයේ තරංග රටාව පහත (a) රූපයේ දී ඇත. ඊට අනුරූපව ප්‍රතිදානයේ තරංග රටාව (b) රූපයේ ඇඳ දක්වන්න.

වෝල්ටීයතාව



(a) රූපය

වෝල්ටීයතාව



(b) රූපය

(d) ඉහත (c) ට අදාළ ව සකස් කළ නව පරිපථයේ ප්‍රතිදානයේ ධාරාව සුමටනය කිරීම සඳහා T, U, W හා X අතුරින් කුමන උපාංගය භාවිත කළ හැකි ද? :

**

B කොටස

● අංක 5, 6, 7, 8 හා 9 යන ප්‍රශ්නවලින් ප්‍රශ්න තුනකට පමණක් පිළිතුරු සපයන්න.

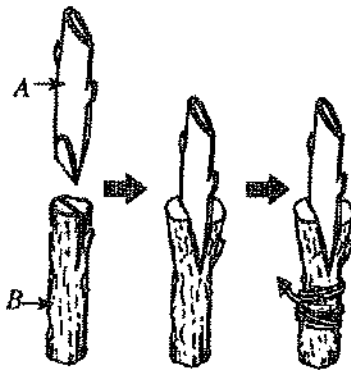
5. (A) මිනිසාගේ රුධිරයේ අඩංගු සංඝටක කිහිපයක් පහත දැක්වේ.

- * රතු රුධිරාණු
- * සුදු රුධිරාණු
- * පට්ටිකා
- * ප්‍රෝටීන
- * ග්ලූකෝස්
- * Ca^{2+}
- * යූරියා

- (i) රුධිරයේ වැඩිපුර ම අඩංගු රුධිරාණු වර්ගය කුමක් ද?
- (ii) ඉහත සඳහන් සංඝටක අතුරින්
 - (a) රුධිර ප්ලාස්මාවට අයත් සංඝටක දෙකක් ලියා දක්වන්න.
 - (b) රුධිරයේ අඩංගු නයිට්‍රජන් සහ කැල්සියම් ප්‍රමාණයන් සඳහන් කරන්න.
- (iii) (a) පහත දී ඇත්තේ එක්තරා වර්ගයකට අයත් රුධිර සෛලයක රූපයකි. එය ඉහත සඳහන් කුමන සංඝටකයට අයත් වේ ද?



- (b) ඉහත (a) හි දක්වා ඇති රුධිර සෛලය අයත් වන රුධිර සංඝටකය මගින් ඉටු කෙරෙන කාර්යයක් සඳහන් කරන්න.
 - (iv) (a) මිනිසාගේ රුධිර සංසරණ පද්ධතිය ආශ්‍රිත රෝගාබාධයක් ලියා දක්වන්න.
 - (b) වෙංගු රෝගය වැළඳුණු පුද්ගලයකුගේ අතිශයින් අඩු වන්නේ කුමන සංඝටකය ද?
 - (v) මිනිසාගේ රුධිර ග්ලූකෝස් මට්ටම යාමනය කරන ක්‍රියාවලිය තෙටියෙන් පැහැදිලි කරන්න.
- (B) (i) ශාක බද්ධ කිරීමේ ක්‍රමයක පියවර පහත රූපයේ දක්වා ඇත.

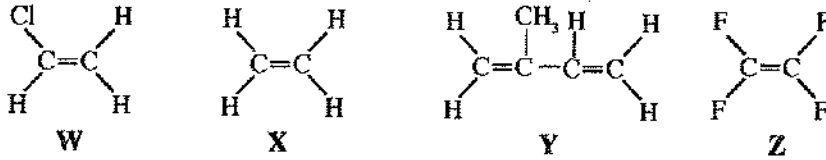


- (a) ඉහත සඳහන් බද්ධ කිරීමේ ක්‍රමය කුමන තමකින් හැදින්වේ ද?
- (b) එම බද්ධ කිරීමේ ක්‍රමයට අනුව, A හා B කොටස් දෙක හඳුන්වනු ලබන නම් පිළිවෙළින් ලියන්න.
- (c) දැනට: ශාකයට ලැබෙන්නේ A හා B කොටස් දෙකෙන් කුමන කොටස සතු ලක්ෂණ ද?
- (ii) ශාකවල ලිංගික ප්‍රජනනය සඳහා දායක වන ව්‍යුහය පුෂ්පය වේ.
 - (a) පුෂ්ප ජායාංගය සමන්විත වන කොටස් තුන නම් කරන්න.
 - (b) සංසේචනයෙන් පසු පුෂ්පයක සිදු වන වෙනස්කම් දෙකක් ලියා දක්වන්න.

(මුළු ලකුණු 20 යි.)

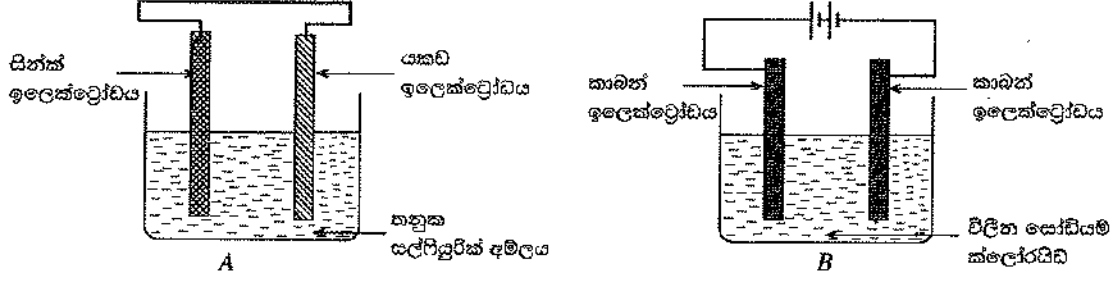


6. (A) පහත දී ඇති W, X, Y හා Z ව්‍යුහ, ඔහුඅවයවක කිහිපයක ඒකඅවයවක වේ.



- (i) W, X, Y හා Z ඒකඅවයවක අතුරෙන් එකිනෙකට ව්‍යුත්පන්නයක් සඳහන් කරන්න.
- (ii) W, X හා Y ඒකඅවයවකවලින් ලැබෙන ඔහුඅවයවක පිළිවෙළින් නම් කරන්න.
- (iii) ඉහත (ii) හි ඔබ සඳහන් කළ ඔහුඅවයවක අතුරෙන් ස්වාභාවික ඔහුඅවයවකය කුමක් ද?

(B) පහත රූපවල A හා B මගින් දැක්වෙන්නේ කෝෂ දෙකකි.



- (i) ඉහත A හා B කෝෂ දෙකෙන් විද්‍යුත්-විච්චේදන කෝෂය කුමක් ද?
- (ii) A කෝෂය ක්‍රියාත්මක වන අවස්ථාවේ දී ලැබෙන නිරීක්ෂණයක් ලියන්න.
- (iii) (a) B කෝෂයේ සිදු වන කැතෝඩ ප්‍රතික්‍රියාව ලියා දක්වන්න.
(b) කෝෂ දෙකෙහි ම ඔක්සිකරණ ප්‍රතික්‍රියා සිදු වන ඉලෙක්ට්‍රෝඩ පොදුවේ හඳුන්වනු ලබන්නේ කුමන නමින් ද?
- (iv) කාර්මික වශයෙන් සෝඩියම් ලෝහය නිෂ්පාදනය කිරීම සඳහා B කෝෂය යොදා නොගැනීමට හේතුව කුමක් ද?

(C) (i) මිශ්‍රණවල අඩංගු සංඝටක වෙන් කර ගැනීමට අදාළ අවස්ථා තුනක් පහත සඳහන් වේ.

- ① - ඛනිජ වැලිවලින් විවිධ ඛනිජ වෙන් කර ගැනීම
- ② - බොරතෙල් පිරිපහදුව මගින් පෙට්රෝලියම් ඉන්ධන වෙන් කර ගැනීම
- ③ - ලිං ජලයෙන් ආඝ්‍රාහ ජලය ලබා ගැනීම

ඉහත ①, ②, හා ③ අවස්ථාවල දී භාවිත කරන වෙන් කිරීමේ ක්‍රම පිළිවෙළින් ලියන්න.

- (ii) විද්‍යාගාරයේ දී සම්මත ද්‍රාවණ සැකසීම සඳහා ද්‍රාවකයක් ලෙස ආඝ්‍රාහ ජලය පුලඹ ව යොදා ගැනේ.
(a) 1.00 mol dm^{-3} සෝඩියම් ක්ලෝරයිඩ් ද්‍රාවණයක 100 cm^3 ක් සාදා ගැනීමට අවශ්‍ය සෝඩියම් ක්ලෝරයිඩ් ස්කන්ධය ගණනය කරන්න. (සෝඩියම් ක්ලෝරයිඩ්වල මවුලික ස්කන්ධය 58.5 g mol^{-1} වේ.)
(b) විද්‍යාගාරයේ දී ඉහත (a) හි සඳහන් කළ සෝඩියම් ක්ලෝරයිඩ් ද්‍රාවණය සාදා ගැනීමේ දී අනුගමනය කරන පියවර අනුපිළිවෙළින් ලියන්න.

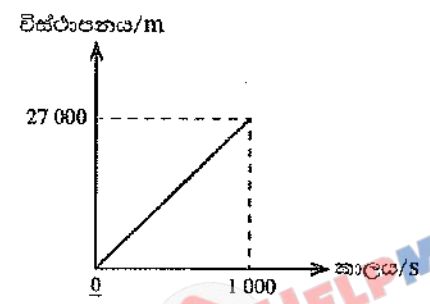
(මුළු ලකුණු 20 යි.)

7. මාර්ගයක වාහනයක් ධාවනය කිරීමේ දී ප්‍රවේගම් විය යුතු අතර, අතිවාරයෙන් ම මාර්ග නීති පිළිපැදිය යුතු වේ.

- (i) වාහනයක ගමන් කිරීමේ දී රියදුරා මෙන් ම මගීන් ද ආසන පටි පැළඳීම වැදගත් වේ. මීට හේතුව කුමක් ද?
- (ii) ඔබ (i) හි සඳහන් කළ පිළිතුර හා සම්බන්ධ වන වලිතය පිළිබඳ නිර්වචනයේ නියමය ලියා දක්වන්න.
- (iii) අධිවේගී මාර්ගයක ආරම්භයේ සිට එම මාර්ගයේ අවසානය දක්වා, එහි වාහනයක් ධාවනය කිරීමට නියම කර ඇති උපරිම ප්‍රවේගයක් ධාවනය වූ A නම් වාහනයකට අදාළ විස්ථාපන-කාල ප්‍රස්තාරය මෙහි දැක්වේ. මෙහි දී අධිවේගී මාර්ගය නිරස් හා සරල රේඛීය යැයි උපකල්පනය කර ඇත.

ප්‍රස්තාරය භාවිතයෙන් පහත දී ඇති ප්‍රශ්නවලට පිළිතුරු සපයන්න.

- (a) අධිවේගී මාර්ගයේ දීග කොපමණ ද?
- (b) එම අධිවේගී මාර්ගයේ වාහනයක් ධාවනය කිරීමට නියම කර ඇති උපරිම ප්‍රවේගය ගණනය කරන්න.



(iv) තදින් වර්ෂාව ඇති දිනවල ඉහත (iii) හි සඳහන් කළ අධිවේගී මාර්ගයේ වාහනයක් ධාවනය කිරීමේ දී පවත්වා ගත යුතු උපරිම ප්‍රවේගය 15 m s^{-1} බවට රියදුරන්ට අවවාද කර තිබේ.

- (a) තදින් වර්ෂාව ඇති විට අධික ප්‍රවේගයෙන් වාහන ධාවනය නොකරන ලෙසට රියදුරන්ට අවවාද කිරීමට ප්‍රධාන හේතුව කුමක් ද?
- (b) ඉහත (a) හි ඔබේ පිළිතුර විද්‍යාත්මක ව පැහැදිලි කරන්න.
- (c) තදින් වර්ෂාව ඇති දිනක ඉහත (iii) හි සඳහන් කළ අධිවේගී මාර්ගයේ ආරම්භයේ සිට අවසානය දක්වා ගමන් කළ B නම් වාහනයක චලිතය පහත සඳහන් පරිදි විය.

එය නිශ්චලතාවයෙන් ආරම්භ කර පළමු තත්පර 10 කුළ ඒකාකාර ලෙස ත්වරණය වී උපරිම ප්‍රවේගය (15 m s^{-1}) ලබා ගන්නා ලදී. ඉන්පසු, එය එම ප්‍රවේගයෙන් යම්කිසි කාලයක් ගමන් කර, පසුව අවසාන තත්පර 10 කුළ ඒකාකාර ලෙස මන්දනය වී අධිවේගී මාර්ගය අවසානයේ නිශ්චලතාවට පත් විය.

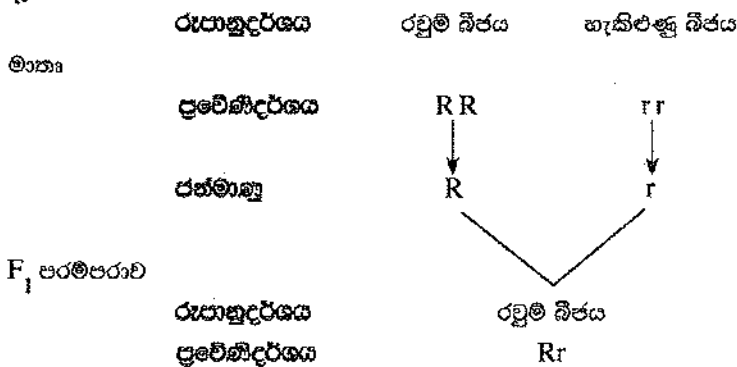
මෙම තොරතුරු දක්වමින්, B වාහනයේ චලිතයට අදාළ ප්‍රවේග-කාල ප්‍රස්තාරයේ දළ සටහනක් අඳින්න.

- (d) B වාහනයට අධිවේගී මාර්ගයේ ගමන් කිරීමට ගත වූ මුළු කාලය සොයන්න.
- (e) B වාහනයේ ස්කන්ධය 3000 kg නම්, උපරිම ප්‍රවේගයෙන් ගමන් කළ අවස්ථාවේ දී එහි ගම්‍යතාව සොයන්න.
- (v) රියදුරන් විසින් වාහන ධාවනය කිරීමේ දී ඉදිරිපස පැති කණ්ණාඩි කෙරෙහි සෑම විට ම අවධානය යොමු කිරීම රිය අනතුරුවලින් වැළකීම සඳහා වැදගත් වේ.

- (a) වාහනවල පැති කණ්ණාඩි සඳහා භාවිත කරන වක්‍ර දර්පණ වර්ගය කුමක් ද?
- (b) වාහන ධාවනය කිරීමේ දී එම දර්පණ කෙරෙහි අවධානය යොමු කිරීම රිය අනතුරු වළක්වා ගැනීම සඳහා ඉවහල් වන්නේ කෙසේ ද?

(මුළු ලකුණු 20 යි.)

8. (A) මෙන්ඩල් විසින් ගෙවතු මෑ ශාකය තෝරා ගෙන ආවේණිය පිළිබඳ ව කරන ලද පරීක්ෂණයට අදාළ රූප සටහනක් පහත දැක්වේ.




- (i) මෙම පරීක්ෂණයේ දී යොදා ගෙන ඇති පරස්පර ලක්ෂණ මොනවා ද?
- (ii) මෙම ක්‍රියාවලියේ දී උභයන විභාජනය සිදු වන්නේ කුමන පියවරේ දී ද?
- (iii) (a) ඉහත පරීක්ෂණයට අනුව, F₁ පරම්පරාවේ ඒකාංග මුහුම්ක ලක්ෂණ ප්‍රවේණිගත වන ආකාරය රූප සටහනක් මගින් පෙන්වන්න.
- (b) ඉහත මුහුමේ F₂ පරම්පරාවේ ලැබෙන දුහිතෘ ජීවීන්ගේ ප්‍රවේණිදර්ශ සහ ඒවාට අනුරූප රූපානුදර්ශ ලියන්න.
- (iv) ඉහත සඳහන් පරිදි ආවේණික ලක්ෂණ ඊළඟ පරම්පරාවට සම්ප්‍රේෂණය වීම සෑම ජීවියකුට ම පොදු වේ. ඒ අනුව, ලේනැයිත් අතර විවාහ සිදු නොකිරීමේ වැදගත්කම කෙටියෙන් පැහැදිලි කරන්න.

(B) නිවසක භාවිත කරන විද්‍යුත් උපකරණ කිහිපයක් පහත දී ඇත.

රූපවාහිනිය, ප්‍රතිදීපන පහන, ක්ෂුද්‍ර තරංග උදුන, ගිල්ලුම් තාපකය, තාපන චලකය, විදුලි ඉස්ත්‍රික්කය

- (i) ඉහත සඳහන් සම්භර උපකරණ භාවිතයේ දී අනිවාර්යයෙන් ම තුන්කුරු පේනු භාවිත කළ යුතු ය.
 - (a) එම උපකරණ අතුරෙන් තුන්කුරු පේනුවක් භාවිත කළ යුතු උපකරණයක් නම් කරන්න.
 - (b) ඔබ (a) හි සඳහන් කළ උපකරණය සඳහා තුන්කුරු පේනුවක් භාවිත කිරීමේ වැදගත්කම කුමක් ද?
- (ii) රූපවාහිනිය ක්‍රියාත්මක වීමේ දී විද්‍යුත් ශක්තිය පරිවර්තනය වන ප්‍රධාන ශක්ති ආකාරයක් ලියන්න.
- (iii) රූපවාහිනිය ක්‍රියාත්මක කරනුයේ දුරස්ථ පාලකයකින් (Remote Control).
 - (a) දුරස්ථ පාලකයෙන් රූපවාහිනියට අදාළ සංඥා යැවෙන්නේ කුමන තරංග ලෙස ද?
 - (b) ඔබ (a) හි සඳහන් කළ තරංග වර්ගයේ ලක්ෂණ දෙකක් ලියන්න.



(iv) ඉහත සඳහන් උපකරණවලින් කිහිපයක ක්ෂමතාව පහත වගුවේ දී ඇත.

උපකරණය	ක්ෂමතාව /W
A - රූපවාහිනිය	125
B - ප්‍රතිදීපන පහන	18
C - ක්ෂුද්‍ර තරංග උදුන	1500
D - විදුලි ඉස්ත්‍රික්කය	1200

එක්තරා දිනක මෙම උපකරණ හතර ම පැය 1යි මිනිත්තු 30ක කාලයක් ක්‍රියාත්මක කර තිබුණි.

(a) ක්‍රියාත්මක කර තිබුණු කාලය තුළ දී වැය කළ විදුලි ශක්ති ප්‍රමාණය ආරෝහණය වන පිළිවෙලට A, B, C හා D පෙළගස්වන්න. (ගණනය කිරීම් අපේක්ෂා නොකෙරේ.)

(b) එම කාලය තුළ දී A මගින් වැය වූ විදුලි ශක්තිය ගණනය කරන්න.

(මුළු ලකුණු 20 යි.)

9. (A) සාන්ද්‍රණය 1.00 mol dm^{-3} වන NaOH, HCl හා NaCl යන ද්‍රාවණ තුන, A, B හා C පරීක්ෂා කළ තුනකට වෙන වෙනම දමා ඇත.

(i) ද්‍රාවණ වෙන් කර හඳුනා ගැනීමට ශිෂ්‍යයකු විසින් කරන ලද පරීක්ෂා හා ඊට අදාළ නිරීක්ෂණ පහත වගුවේ දැක් වේ.

පරීක්ෂාව	නිරීක්ෂණ
1. A නළයේ ඇති ද්‍රාවණයට රතු හා නිල් ලිට්මස් පත්‍ර දැමීම	<ul style="list-style-type: none"> ● නිල් ලිට්මස් වර්ණ වෙනසක් නොදැක්වී ය. ● රතු ලිට්මස් නිල් පැහැයට හැරුණි.
2. B නළයේ ඇති ද්‍රාවණයට රතු හා නිල් ලිට්මස් පත්‍ර දැමීම	<ul style="list-style-type: none"> ● රතු හා නිල් ලිට්මස් වර්ණ වෙනසක් නොදැක්වී ය.

A, B හා C පරීක්ෂා කළවල අඩංගු ද්‍රාවණ පිළිවෙලින් සඳහන් කරන්න.

(ii) ඉහත සඳහන් NaOH හා HCl ද්‍රාවණවලින් 100 ml බැගින් ගෙන තාප පරිවරණය කරන ලද බඳුනක් තුළ මිශ්‍ර කළ විට මිශ්‍රණයේ උෂ්ණත්වය 5°C කින් ඉහළ නැගුණි.

(a) NaOH හා HCl අතර සිදු වන ප්‍රතික්‍රියාවේ තුලිත රසායනික සමීකරණය ලියන්න.

(b) ඉහත සඳහන් ප්‍රතික්‍රියාවේ දී සිදු වූ තාප විපර්යාසය ගණනය කරන්න.

(ජලයේ විශිෂ්ට තාප ධාරිතාව $4200 \text{ J kg}^{-1} \text{ }^\circ\text{C}^{-1}$ හා ජලයේ ඝනත්වය 1 g cm^{-3} ලෙස ගන්න.)

(iii) ඉහත සඳහන් කළ NaOH හා HCl අතර ප්‍රතික්‍රියාවේ තාප විපර්යාසය නිර්ණය කිරීමේ දී මධ්‍ය විසින් සිදු කළ උපකල්පන දෙකක් ලියන්න.

(B) සූර්යයා, වායුගෝලය, ගොඩබිම් හා සාගරය ස්වාභාවික සම්පත් වේ.

(i) සූර්යයාගේ මතුපිට උෂ්ණත්වය ආසන්න වශයෙන් 5800 K වේ.

(a) ඉහත සඳහන් උෂ්ණත්වය සෙල්සියස් අංශකවලින් නොපමණ ද?

(b) සූර්යයාගේ සිට පෘථිවියට තාපය සංක්‍රාමණය වන්නේ කුමන තාප සංක්‍රාමණ ක්‍රමයෙන් ද?

(c) සූර්ය තාපය හේතුවකට ගෙන දිවා කාලයේ දී මුහුදු සුළං ඇති වන ආකාරය විද්‍යාත්මක ව පැහැදිලි කරන්න.

(ii) එක්තරා දිනක මුහුදු මට්ටමේ දී වායුගෝලීය පීඩනය 76 cm Hg ද මුහුදු මට්ටමේ සිට 10 km උසක දී වායුගෝලීය පීඩනය 20 cm Hg ද විය.

(a) ඉහත සඳහන් වායුගෝලීය පීඩන මිනුම් ලබා ගැනීමට භාවිත කරන විද්‍යාගාර උපකරණයක් නම් කරන්න.

(b) ඉහත නිරීක්ෂණය කරන ලද පීඩන වෙනසට හේතුව කුමක් ද?

(iii) සාගරයේ මතුපිට සිට 2 km ගැඹුරකින් පිහිටි ස්ථානයක පවතින ද්‍රවස්ථිතික පීඩනය ගණනය කරන්න. සාගර ජලයේ ඝනත්වය 1050 kg m^{-3} ලෙස ද ගුරුත්වජ ත්වරණය 10 m s^{-2} ලෙස ද ගන්න.

(මුළු ලකුණු 20 යි.)

